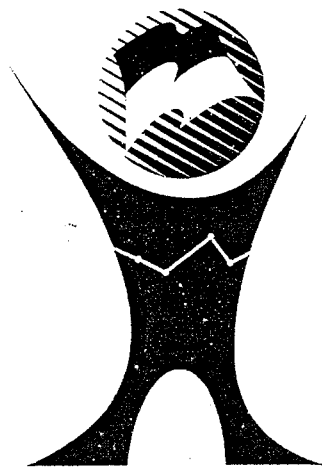




SOAL SELEKSI OLIMPIADE SAINS TINGKAT KABUPATEN/KOTA 2011 BIDANG EKONOMI

Waktu : 120 Menit



**KEMENTERIAN PENDIDIKAN NASIONAL
DIREKTORAT JENDERAL PENDIDIKAN MENENGAH
DIREKTORAT PEMBINAAN SEKOLAH MENENGAH ATAS
TAHUN 2011**



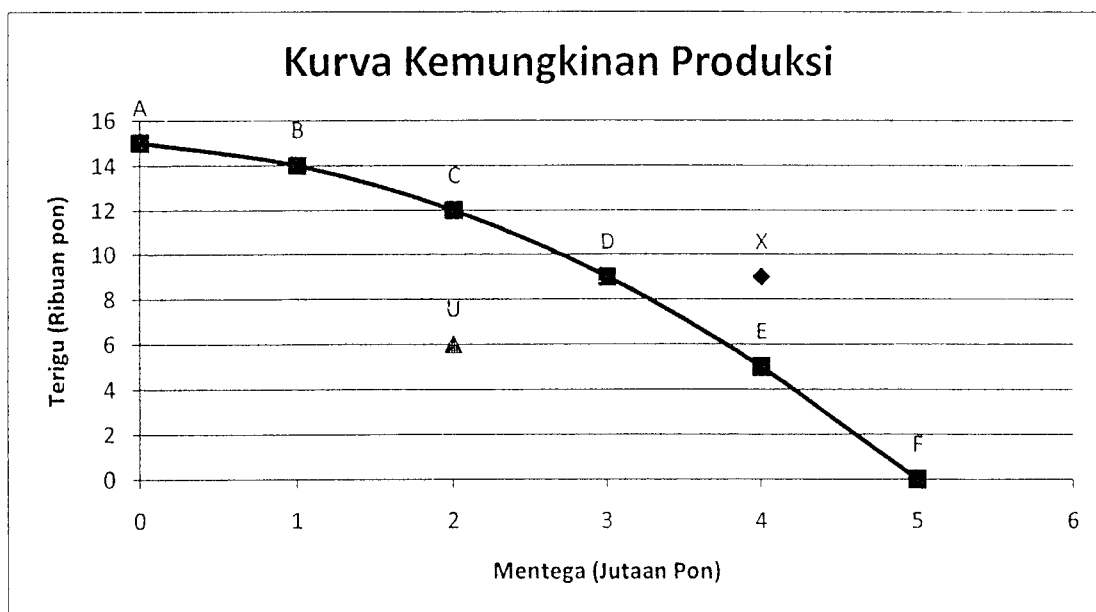
Certificate No. ID09/2146

SOAL OLIMPIADE SAINS KABUPATEN/KOTA TAHUN 2011

1. Perhatikan permasalahan di bawah ini:
- 1) Untuk meningkatkan kesejahteraan masyarakat perlu dibuka kesempatan kerja seluas-luasnya
 - 2) Masalah kemiskinan dapat diatasi sejak dari akarnya, yaitu dengan memberi kesempatan seluas-luasnya kepada masyarakat dalam bidang pendidikan
 - 3) Rendahnya tingkat investasi, menyebabkan rendahnya produktivitas
 - 4) Bagaimana anak-anak akan tumbuh menjadi atlet profesional atau ahli ekonomi profesional atau pemrogram komputer
 - 5) Seberapa luas lahan yang akan digunakan untuk menanam cabai, dan seberapa luas untuk menanam jagung

Pernyataan di atas yang merupakan permasalahan ekonomi modern adalah butir....

- A. 1 dan 2
 - B. 2 dan 3
 - C. 2 dan 4
 - D. 3 dan 4
 - E. 4 dan 5
2. Masyarakat tidak bisa mendapatkan semua yang mereka inginkan, karena dibatasi oleh sumber daya dan teknologi yang ada. Perhatikan kurva di bawah ini!



Berdasarkan kurva di atas, maka pernyataan yang benar di bawah ini adalah

- A. titik A adalah batas yang menunjukkan kemungkinan produksi mentega dan terigu
 - B. titik A, B, C, dan D merupakan titik kemungkinan produksi mentega saja
 - C. titik U merupakan titik kemungkinan produksi mentega dan terigu yang paling efisien
 - D. titik F sebaiknya dipilih karena memberikan tingkat efisiensi yang maksimum bagi perekonomian
 - E. titik X merupakan pilihan yang tidak dapat dicapai
3. In the United States of America and most democracy countries, the economics problems are solved by market (market economics system). The market economics system is a system where private companies make decisions for consumption and production. The advantages of the system are....
- A. government has power to control the economics system.
 - B. government intervention can avoid gaps.
 - C. there is no economic competition because people are more free to create.
 - D. people feel fairness and more distributed incomes.
 - E. people motivation and creativity improve so the economic decisions are expected to be more transparent and it can accelerate the economic growth.

4. Di bawah ini adalah kebaikan dan kelemahan sistem ekonomi:

NO	A	B	C
1	Kemakmuran mudah dicapai oleh masyarakat	Kegiatan produksi menyebar di seluruh wilayah negara tersebut	Faktor-faktor produksi hanya boleh dimiliki oleh para manajer
2	Kreativitas dan potensi masyarakat dapat berkembang	Pemerintah memberikan kebebasan sehingga keadilan berusaha terjamin	Adanya kebebasan berusaha yang dapat menimbulkan rasa adil
3	Adanya pemerataan pendapatan masyarakat	Mutu barang dan jasa lebih baik, karena setiap produsen ingin memenangkan persaingan	Lebih efektif dan efisien dalam proses produksi, karena ingin mendapat laba sebesar-besarnya

Berdasarkan tabel di atas, yang termasuk kebaikan sistem ekonomi pasar adalah butir....

- A. A1, B2, dan C1
- B. A2, B2, dan C2
- C. A3, B2, dan C2
- D. A2, B3, dan C3
- E. A3, B3, dan C3

5. The following are the internal and external factors of a family which can effect consumption level:

- 1) culture development
- 2) people growth
- 3) motivation of getting a better life
- 4) personality
- 5) life style
- 6) technology advancement

The internal factors are

- A. 1, 2, and 3
- B. 2, 3, and 4
- C. 3, 4, and 5
- D. 3, 5, and 6
- E. 4, 5, and 6

6. Perkembangan komunikasi informasi dengan berbagai media yang sangat canggih berdampak luas bagi pola konsumen dan produsen dalam melakukan kegiatannya. Di bawah ini yang termasuk perilaku produsen adalah

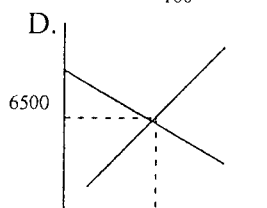
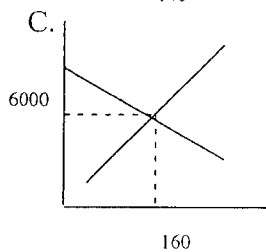
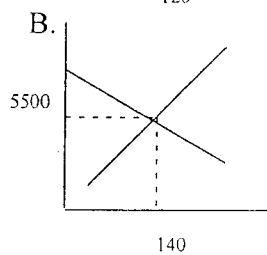
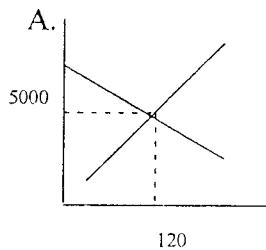
- A. dengan fasilitas internet Pak Setiawan mengakses informasi tentang lowongan kerja dalam bidang desain
- B. Ibu Aswati memiliki keahlian dalam merangkai bunga, banyak yang memesan kepadanya melalui facebook dan setiap saat pelanggan dapat dilayani tanpa harus kelua rumah
- C. Pak Muhamad Yamin sebagai seorang guru di Kota Tangerang Selatan sedang mengunggah data siswa untuk keperluan seleksi nasional masuk perguruan tinggi negeri

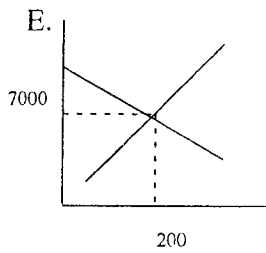
- D. Bahrul Aji sangat gembira karena menerima kabar di media bahwa dia diterima bekerja di sebuah perusahaan swasta nasional
- E. Ny. Budiman mengirim surat kepada sahabatnya melalui e-mail ke Jepang, memesan baju kimono yang sangat disukainya setelah dia mengirim batik tulis buatannya sendiri sebagai 'cendera mata' untuk sahabatnya itu

7. Daftar permintaan dan penawaran kedelai di pasar "M" sebagai berikut:

Harga	Jumlah Penawaran	Jumlah Permintaan
Rp5.000	120 kg	200 kg
Rp5.500	140 kg	180 kg
Rp6.000	160 kg	160 kg
Rp6.500	180 kg	140 kg
Rp7.000	200 kg	120 kg

Berdasarkan tabel di atas, kurva keseimbangan pasar yang benar adalah...





8. Policies that the government is to control the increase demands of labor income. The policy aim to....
- increase the production of goods
 - reducing the production of goods
 - reduce the supply of goods
 - avoid the increased cost of production
 - suppress the number of demand for goods
9. Kelompok pembeli yang memiliki kemampuan sama dengan harga pasar adalah....
- pembeli super marginal
 - pembeli marginal
 - pembeli sub marginal
 - penjual sub marginal
 - penjual marginal
10. If supply is higher than demand then....
- equilibrium position is the maximum
 - there is excess demand
 - the amount offered is in stable condition
 - excess supply occurs
 - rising price trend

11. When the price of grapes Rp15,000, 00 per kg, the amount of grapes demanded 100 kg, then when the price increased to Rp16.000, 00 per kg, the amount of grapes demanded 70 kg, then the demand function is....
- $10Q = 3P - 55,000$
 - $10Q = 0.3 P - 55,000$
 - $Q = - 0.03 P + 550$
 - $3P = 10Q + 55,000$
 - $3P = 100Q + 550$
12. Misalkan sebuah pasar sepatu dalam keadaan keseimbangan. Kemudian terjadi perubahan yang menimbulkan keseimbangan yang baru pada harga yang lebih tinggi dan kuantitas yang lebih rendah. Perubahan ini mungkin disebabkan oleh....
- penurunan permintaan
 - penurunan penawaran
 - peningkatan penawaran
 - peningkatan permintaan
 - penurunan permintaan dan peningkatan penawaran
13. Komponen APBN dan APBD sebagai berikut:
- 1) Bea Pendapatan Hak Tanah dan Bangunan (BPHTB)
 - 2) Pos retribusi
 - 3) Bagi hasil dan bantuan keuangan
 - 4) Bagian lama BUMN
 - 5) Subsidi BBM dan non BBM
- Yang merupakan komponen APBN adalah butir....
- 1, 2, dan 3
 - 1, 3, dan 4
 - 1, 4, dan 5
 - 2, 3, dan 4
 - 2, 4, dan 5

14. Kelompok pembeli yang memiliki kemampuan sama dengan harga pasar adalah
- A. Pembeli super marginal
 - B. Pembeli marginal
 - C. Pembeli sub marginal
 - D. Penjual sub marginal
 - E. Penjual marginal
15. Which includes the assumption of budget preparation, EXCEPT
- A. economic growth
 - B. currency rates
 - C. SBI 3 months
 - D. the price of kerosene
 - E. borrowing abroad
16. Fiscal policy instruments among others, EXCEPT
- A. The tax rate
 - B. Unemployment insurance
 - C. Minimum price policy
 - D. Making changes on government spending
 - E. Decrease the rate of inflation
17. The following typer of expenditure by function, EXCEPT
- A. economic functions
 - B. health function
 - C. environmental functions
 - D. transport function
 - E. educational function

18. Di Indonesia perubahan nilai rupiah (Rp) terhadap dolar (\$) sering tidak stabil. Perubahan penurunan nilai rupiah sangat dirasakan oleh importir dan produsen yang menggunakan bahan baku impor serta masyarakat pengguna produk tersebut. Hal ini disebabkan oleh
- A. rendahnya selera masyarakat terhadap produk luar negeri
 - B. turunnya harga bahan baku dan suku cadang dari luar negeri
 - C. perubahan tingkat bunga dan pengembalian investasi Indonesia
 - D. kondisi keamanan di Indonesia yang sangat kondusif
 - E. kenaikan harga barang-barang ekspor dari Indonesia
19. if the supply curve is fixed, but increases the demand curve
- A. equilibrium price will increase and the balance amount will increase
 - B. equilibrium price will decrease and the amount of the balance will decline
 - C. equilibrium price will decrease and the balance amount will increase
 - D. equilibrium price will increase and the balance amount will decrease
 - E. equilibrium price will remain and the balance amount will increase.
20. Untuk jasa-jasa bank lainnya pihak perbankan konvensional menggunakan atau menerapkan berbagai biaya secara nominal atau persentase tertentu yang disebut...
- A. registrasi
 - B. *fee based*
 - C. pra bayar
 - D. *free card*
 - E. iuran
21. Bank sentral memasok dana ke dalam cadangan perbankan sebesar Rp10 triliun. Pada saat yang sama bank sentral menetapkan rasio kebutuhan cadangan sebesar 2%. Dari proses penciptaan uang, jumlah uang beredar dapat bertambah sebesar ...
- A. Rp10,2 triliun
 - B. Rp12 triliun
 - C. Rp50 triliun
 - D. Rp102 triliun
 - E. Rp500 triliun

22. Berikut ini adalah tindakan-tindakan yang dapat dilakukan oleh bank sentral dalam membuat kebijakan moneter:

- 1) Menurunkan tingkat suku bunga terhadap bank-bank umum
- 2) Menaikkan tingkat suku bunga terhadap bank-bank umum
- 3) Membeli surat berharga
- 4) Menjual surat berharga

Berdasarkan pernyataan di atas, yang merupakan kebijakan untuk mengurangi jumlah uang yang beredar adalah....

- A. 1, 2, dan 3
- B. 1 dan 3
- C. 2 dan 4
- D. 3 dan 4
- E. 1, 2, dan 4

23. UU No. 1 tahun 2008 menentukan tarif tunggal untuk *Wajib Pajak Badan*, yaitu 28% pada tahun 2009 dan 25% pada tahun 2010. Untuk *Wajib Pajak Badan* Masuk Bursa di tahun 2009 tarif 5% lebih rendah dari tarif yang berlaku. Pada tahun 2009 PT Makin Jaya (*belum go public*) memperoleh penghasilan bersih selama setahun sebesar Rp405.500.000,00. Dengan demikian, pajak penghasilan terutang dari PT Makin Jaya adalah....

- A. Rp81.100.000,00
- B. Rp91.375.000,00
- C. Rp101.375.000,00
- D. Rp104.150.000,00
- E. Rp113.540.000,00

24. If the consumption's function is $C = 50 \text{ Miliar} + 0,8Y$ and we have national income Rp900 Miliar, the amount of saving is....

- A. Rp770 M
- B. Rp670 M
- C. Rp230 M
- D. Rp130 M
- E. Rp110 M

25. Diketahui fungsi konsumsi masyarakat suatu negara $C = 900.000 + 0,80 Y$. Jika pendapatan masyarakatnya meningkat dari Rp1.800.000,00 menjadi Rp2.500.000,00, maka besarnya tambahan konsumsi sebesar
- Rp540.000,00
 - Rp560.000,00
 - Rp580.000,00
 - Rp590.000,00
 - Rp640.000,00
26. Seorang wajib pajak mempunyai :
- Tanah seluas 1.000 m dengan harga jual Rp 50.000,00 / m
 - Gedung seluas 250 m dengan harga jual Rp 300.000,00/ m
 - Pagar sepanjang 100 m lebar 2 m dan harga jual Rp 50.000,00/ m
- Bangunan tidak kena pajak Rp 10.000.000,00 maka PBB yang harus dibayar sebesar....
- Rp25.000,00
 - Rp125.000,00
 - Rp250.000,00
 - Rp12.500.000,00
 - Rp25.000.000,00
27. Suatu barang yang berorientasi perdagangan ke luar negeri mempunyai fungsi permintaan $P_d = 50 - 2Q$ dan fungsi penawaran $P_s = -30 + 2Q$
- Dalam rangka meningkatkan ekspor pemerintah memberikan subsidi $S = 10$ per unit
- Berdasarkan data di atas, maka harga keseimbangan (Q,P) setelah subsidi adalah....
- 20 dan 10
 - 22,5 dan 5
 - 24 dan 5
 - 10 dan 20
 - 5 dan 22,5
28. Kurva permintaan investasi adalah kurva yang menggambarkan hubungan antara suku bunga dan investasi yaitu
- semakin tinggi tingkat suku bunga akan semakin rendah investasinya

- B. semakin tinggi tingkat suku bunga akan semakin tinggi investasinya
- C. semakin tinggi investasi akan semakin tinggi suku bunganya
- D. semakin tinggi investasi akan semakin rendah suku bunganya
- E. semakin tinggi tingkat suku bunga akan semakin besar tabungannya

29. Give attention to data balance sheet data bellow:

- 1) Foreigner stock purchasing in Indonesia.
- 2) Product export and import
- 3) Service transaction
- 4) Abroad Indonesian investment
- 5) Thoroughly foreigner investment in Indonesia.
- 6) Tourism service income

Which are including to a current account?

- A. 1, 2, and 3
- B. 1, 3, and 5
- C. 2, 3, and 4
- D. 2, 3, and 6
- E. 4, 5, and 6

30. Mr. Irfan Smith warga negara Amerika Serikat akan melakukan wisata ke indonesia dengan uang yang dibawa \$ 2.000, US semua uang ditukarkan dengan rupiah, kurs yang berlaku pada saat itu kurs jual 1 US\$ = Rp9.700,00 kurs tengah 1 US\$ Rp9.600,00 dan kurs beli 1 US\$ Rp9.500,00. Selama wisata di Indonesia ia menghabiskan dana Rp14.000.000,00.

Jumlah US\$ yang tersisa apabila saat ditukar kembali kurs jual 1US\$ = Rp9.900,00 ,kurs tengah 1 US\$ = Rp9.850,00 dan kurs beli 1US\$ = Rp9.800,00 adalah... .

- A. US\$ 404,04
- B. US\$ 408,16
- C. US\$ 505,05
- D. US\$ 510,20
- E. US\$ 551,02

31. Komponen neraca pembayaran yang berisi catatan tentang data transaksi-transaksi yang tidak tercatat atau karena ketidaklengkapan informasi akan dimasukkan ke dalam....
- Settlement account*
 - Capital account*
 - Current account*
 - Errors and omissions*
 - Transfer payment*
32. Sistem pembayaran internasional dengan cara pembayaran dilakukan antara pembeli penjual dengan cara melakukan kompensasi atas utang piutang sehingga mengurangi atau meniadakan transfer valas ke luar negeri adalah....
- cash in advance*
 - open account*
 - private compensation*
 - letter of credit*
 - bill of exchange*
33. Naiknya cadangan devisa suatu negara akan berakibat....
- naiknya pendapatan nasional negara yang bersangkutan
 - naiknya pendapatan per kapita negara yang bersangkutan
 - distribusi pendapatan negara tersebut cukup stabil
 - depresiasi mata uang negara yang bersangkutan
 - apresiasi mata uang negara yang bersangkutan
34. Diketahui:
- | | |
|------------------------|---------------|
| Konsumsi | = 102 trilyun |
| Investasi | = 60 trilyun |
| Upah | = 15 trilyun |
| Pengeluaran Pemerintah | = 80 trilyun |
| Ekspor | = 52 trilyun |
| Impor | = 42 trilyun |
| Laba | = 10 trilyun |

Berdasarkan data di atas, besarnya pendapatan nasional dengan pendekatan pengeluaran adalah....

- A. 252 trilyun
- B. 256 trilyun
- C. 262 trilyun
- D. 272 trilyun
- E. 280 trilyun

35. Berikut ini faktor yang memengaruhi konsumsi (C) dan tabungan (S):

1. Selera
2. Pendapatan
3. Tingkat suku bunga
4. Perkembangan IPTEK
5. *Marginal Propensity to Save*

Faktor yang memengaruhi besar kecilnya tabungan seseorang adalah butir... .

- A. 1, 2, dan 3
- B. 1, 2, dan 4
- C. 1, 2, dan 5
- D. 2, 3, dan 5
- E. 3, 4, dan 5

36. February 1st, 2011, purchased supplies worth Rp 1.000.000,00 and equipment worth Rp 4.000.000,00; paid Rp 2.000.000,00 rest next month.

The above transactions are recorded on the accounting equation

- | | | |
|----|-----------------|---------------------|
| A. | Cash | (+) Rp 2.000.000,00 |
| | Supplies | (+) Rp 1.000.000,00 |
| | Equipment | (+) Rp 4.000.000,00 |
| | Account Payable | (+) Rp 5.000.000,00 |
| B. | Cash | (-) Rp 3.000.000,00 |
| | Supplies | (+) Rp 1.000.000,00 |
| | Equipment | (+) Rp 4.000.000,00 |
| | Account Payable | (-) Rp 2.000.000,00 |
| C. | Cash | (+) Rp 2.000.000,00 |
| | Supplies | (+) Rp 1.000.000,00 |
| | Equipment | (+) Rp 4.000.000,00 |

	Account Payable	(-) Rp 3.000.000,00
D.	Cash	(-) Rp 2.000.000,00
	Supplies	(+) Rp 1.000.000,00
	Equipment	(+) Rp 4.000.000,00
	Account Payable	(+) Rp 3.000.000,00
E.	Cash	(-) Rp 2.000.000,00
	Supplies	(-) Rp 1.000.000,00
	Equipment	(-) Rp 4.000.000,00
	Account Payable	(+)Rp5.000.000,00

37. Daftar Akun sebagian dari Biro Jasa Perjalanan “Nyaman”:

- 111 Kas
- 112 Peralatan
- 213 Gaji yang masih harus dibayar
- 312 Prive Chandra
- 411 Pendapatan Jasa
- 515 Beban Listrik, Air, dan Telepon

Tanggal 3 Februari 2011 Biro Perjalanan “Nyaman” membayar rekening listrik Rp300.000,00.

Tanggal 4 Februari 2011 Biro Perjalanan “Nyaman” membayar rekening air Rp 200.000,00 an rekening telepon Rp400.000,00.

Transaksi di jurnal sebagai berikut

A.	Beban Listrik	Rp300.000,00
	Kas	Rp300.000,00
B.	Beban Air	Rp200.000,00
	Beban Telepon	Rp400.000,00
	Kas	Rp600.000,00
C.	Beban Listrik , air, dan Telepon	Rp900.000,00
	Kas	Rp900.000,00
D.	Beban Listrik	Rp300.000,00
	Kas	Rp300.000,00
	Beban Air	Rp200.000,00
	Beban Telepon	Rp400.000,00

	Kas	Rp600.000,00
E.	Beban Listrik , Air, dan Telepon	Rp300.000,00
	Kas	Rp300.000,00
	Beban Listrik , Air, dan Telepon	Rp200.000,00
	Kas	Rp900.000,00
	Beban Listrik , Air, dan Telepon	Rp400.000,00
	Kas	Rp400.000,00

38. Kertas Kerja sebagian dari Bengkel Mobil "Oke" per 31 Desember 2010 :

(dalam rupiah)

Akun	Laba / Rugi		Neraca	
	Debit	Kredit	Debit	Kredit
.....
Peralatan Bengkel			7.000.000	
.....
	38.400.000	32.700.000	56.800.000	62.500.000
	K-1	L-1	M-1	N-1
	K-2	L-2	M-2	N-2

Berdasarkan data diatas , maka

- A. K-1 = Rp7.000.000,00 M-1 = Rp5.700.000,00
 B. L-1 = Rp0,00 ; M-1 = Rp5.700.000,00
 C. M-2 = Rp62.500.000,00 N-2 = Rp62.500.000,00
 D. N-1 = N-2
 E. L-2 = Rp32.700.000,00 K-2 = Rp32.700.000,00
39. Dalam Kertas Kerja dari Servis TV "Mantap" per 31 Desember 2010,
 Neraca Saldo Disesuaikan berikut:

Kas	Rp5.000.000,00
Piutang Usaha	Rp2.000.000,00
Perlengkapan	Rp3.000.000,00
Peralatan	Rp20.000.000,00
Akumulasi Penyusutan Perlatan	Rp8.000.000,00

Utang Usaha	Rp6.000.000,00
Modal Budi	Rp12.000.000,00
Pribadi Budi	Rp1.000.000,00
Pendapatan Jasa	Rp25.000.000,00
Beban Gaji	Rp6.000.000,00
Beban Perlengkapan	Rp8.000.000,00
Beban Penyusutan Peralatan	Rp4.000.000,00
Beban Serba-serbi	Rp2.000.000,00
Berdasarkan data di atas, maka	
A. Laba	Rp5.000.000,00
Penambahan Modal	Rp4.000.000,00
Jumlah Harta	Rp40.000.000,00
B. Jumlah Pendapatan	Rp25.000.000,00
Modal Awal	Rp11.000.000,00
Jumlah Kuajiban	Rp6.000.000,00
C. Jumlah Beban	Rp20.000.000,00
Modal Akhir	Rp16.000.000,00
Jumlah Harta Lancar	Rp10.000.000,00
D. Rugi	Rp2.000.000,00
Pengurangan Modal	Rp1.000.000,00
Jumlah Harta Tetap	Rp12.000.000,00
E. Laba / Rugi	Rp0,00
Modal Akhir	Rp16.000.000,00
Jumlah Pasiva	Rp22.000.000,00

40. Dr. R. Robert a dentist, began his practices by investing the business as the following assets:

- Cash \$12,000
- Supplies \$1,400
- Equipment \$22,000
- Furniture \$10,000

If Dr. R. Robert owed a balance of \$ 3,500 on the equipment, what would be the opening/first entry...

A.	Cash	\$ 12,000	
	Supplies	\$ 1,400	
	Equipment	\$ 19,100	
	Furniture	\$ 10,000	
	Account payable		\$ 3,500
	R. Robert capital		\$ 42,000
B.	Cash	\$ 12,000	
	Supplies	\$ 1,400	
	Equipment	\$ 22,600	
	Furniture	\$ 10,000	
	Account payable		\$ 3,500
	R. Robert capital		\$ 42,500
C.	Account Receivable	\$ 8,500	
	Supplies	\$ 1,400	
	Equipment	\$ 22,600	
	Furniture	\$ 10,000	
	R. Robert capital		\$ 42,500
D.	Cash	\$ 12,000	
	Supplies	\$ 1,400	
	Equipment	\$ 22,600	
	Furniture	\$ 10,000	
	R. Robert capital		\$ 46,000
E.	Cash	\$ 12,000	
	Supplies	\$ 1,400	
	Equipment	\$ 19,100	
	Furniture	\$ 10,000	
	Account payable		\$ 3,500
	R. Robert capital		\$ 42,000

41. Wilbur Ronny owns an airplane repair shop, gives informations that:

- Prepaid insurance \$ 1,150
- Wages payable \$ 2,600
- Wilbur Ronny, capital (January) \$ 26,575

- Wilbur Ronny, drawing \$ 10,200
- Repair shop income \$ 84,000
- Wages expense \$ 41,500
- Rent expense \$ 28,200
- Utilities expense \$ 10,100
- Supplies expense \$ 3,980
- Miscellaneous expense \$ 375

What the affect would be it has on the financial statements?

- A Net loss \$ 155
- B Net loss \$ 1,305
- C Net income \$ 28,045
- D Net income \$ 37,195
- E Net loss \$ 84,155

42. After all revenue and expense accounts were closed at the end of the fiscal year, the expense and income summary had a debit total of \$ 100,000 and a credit total of \$ 150,000. The capital account for Laura Anthony had credit balance of \$ 50,000 and Laura Anthony's drawing, had a debit balance of \$ 35,000. Journalize the closing entries is....

- A. Income summary \$ 50,000
 - Laura Anthony, capital \$ 50,000
 - Laura Anthony, capital \$ 35,000
 - Laura Anthony, drawing \$ 35,000
- B. Laura Anthony, capital \$ 50,000
 - Income summary \$ 50,000
 - Laura Anthony, capital \$ 35,000
 - Laura Anthony, drawing \$ 35,000
- C. Laura Anthony, capital \$ 50,000
 - Income summary \$ 50,000
 - Laura Anthony, drawing \$ 35,000
 - Laura Anthony, capital \$ 35,000
- D. Income summary \$ 100,000
 - Laura Anthony, capital \$ 100,000

Laura Anthony, capital	\$ 150,000
Income summary	\$ 150,000
E. Income summary	\$ 100,000
Laura Anthony, capital	\$ 100,000
Income summary	\$ 150,000
Laura Anthony, drawing	\$ 150,000

43. Kertas kerja "BENGKEL IZOEL" berikut ini :

Kertas Kerja
31 Desember 2010

No	Nama Rekening	N. Saldo Disesuaikan		Rugi//Laba		Neraca	
		D	K	D	K	D	K
101	Kas	14.000.000	-	-	-	14.000.000	-
102	Piutang Usaha	7.000.000	-	-	-	7.000.000	-
103	Perlengkapan	2.000.000	-	-	-	2.000.000	-
104	Asuransi diby dimuka	2.000.000	-	-	-	2.000.000	-
105	Sewa dibayar di muka	7.000.000	-	-	-	7.000.000	-
111	Peralatan servis	22.500.000	-	-	-	22.500.000	-
112	Akm Penyusutan Prln	-	8.000.000	-	-	-	8.000.000
201	Utang Usaha	-	5.000.000	-	-	-	5.000.000
301	Modal H. Zulfikar	-	30.000.000	-	-	-	30.000.000
302	Prive H. Zulfikar	3.000.000	-	-	-	3.000.000	-
401	Pendapatan servis	-	35.500.000	-	35.500.000	-	-
402	Pendapatan Komisi	-	40.000.000	-	40.000.000	-	-
501	Beban Gaji	35.500.000	-	35.500.000	-	-	-
502	Beban Iklan	5.000.000	-	5.000.000	-	-	-
504	Beban Perlengkapan	3.000.000	-	3.000.000	-	-	-
505	Beban Asuransi	4.000.000	-	4.000.000	-	-	-
506	Beban Sewa	5.000.000	-	5.000.000	-	-	-
507	Beban Penyusutan perlt	2.000.000	-	2.000.000	-	-	-
106	Piutang Pendapatan	3.500.000	-	-	-	3.500.000	-
107	Gaji dibayar di muka	1.500.000	-	-	-	1.500.000	-
108	Iklan dibayar di muka	2.500.000	-	-	-	2.500.000	-
202	Utang Bunga	-	1.000.000	-	-	-	1.000.000
		119.500.000	119.500.000	54.500.000	75.500.000	65.000.000	44.000.000

Berdasarkan sebagian data akun di atas, besarnya modal akhir H. Zulfikar adalah....

- A. Rp21.0000.000,00
- B. Rp44.000.000,00
- C. Rp48.000.000,00
- D. Rp51.000.000,00
- E. Rp54.000.000,00

44. Transaksi “Bengkel 88”:

3 Jan 2009: Membeli peralatan servis Rp23.000.000,00 dibayar Rp3.000.000,00 sisanya dengan dengan wesel tidak berbunga.

Jurnal umumnya adalah...

- | | | | |
|----|--------------|-----------------|-----------------|
| A. | Peralatan | Rp23.000.000,00 | |
| | Kas | | Rp3.000.000,00 |
| | Utang | | Rp20.000.000,00 |
| B. | Peralatan | Rp23.000.000,00 | |
| | Kas | | Rp3.000.000,00 |
| | Wesel bayar | | Rp20.000.000,00 |
| C. | Peralatan | Rp26.000.000,00 | |
| | Utang dagang | | Rp26.000.000,00 |
| D. | Peralatan | Rp26.000.000,00 | |
| | Kas | | Rp3.000.000,00 |
| | Wesel bayar | | Rp23.000.000,00 |
| E. | Peralatan | Rp26.000.000,00 | |
| | Wesel bayar | | Rp26.000.000,00 |

45. On Des 31, 2009 PT ABC has *Unearned Interest* Rp 2.400.000,00 PT ABC record interest as an liabilities on Sept 1, 2009 for 2 year. Adjusting entries which are made by PT ABC...

- | | | | |
|----|-------------------|----------------|----------------|
| A. | Interest income | Rp400.000,00 | |
| | Unearned interest | | Rp400.000,00 |
| B. | Unearned interest | Rp400.000,00 | |
| | Interest income | | Rp400.000,00 |
| C. | Interest income | Rp2.000.000,00 | |
| | Unearned interest | | Rp2.000.000,00 |

D.	Unearned interest	Rp2.000.000,00	
	Interest income		Rp2.000.000,00
E.	Interest receivable	Rp2.000.000,00	
	Interest income		Rp2.000.000,00

46. On December 27th 2010, XYZ entity has delivered Mrs. Manohara Invitation Card. XYZ has sent the invoice Rp.300.000,00 but received cash for Rp150.000,00. Prepare the journal entry for XYZ

A.	Dr. Cash	300.000	
	Cr. Revenue		300.000
B.	Dr. Cash	300.000	
	Cr. Unearned Revenue		300.000
C.	Dr. Cash	150.000	
	Dr. Account Revenue	150.000	
	Cr. Revenue		300.000
D.	Dr. Cash	150.000	
	Dr. Unearned Revenue	150.000	
	Cr. Revenue		300.000
E.	Dr. Cash	150.000	
	Dr. Revenue	150.000	
	Cr. Account Revenue		300.000

47. A company receives interest on a Rp30.000.000,00 8%, 5 year note receivable each April 1. At December 31, 2010, the following adjusting entry was made to interest receivable :

Interest Receivable.....	Rp1.800.000,00	-
Interest Revenue.....	-	Rp1.800.000,00

Assuming that the company used reversing entries, what entry should be made on April 1, 2007 when the annual interest payment is received ?

A.	Cash	Rp600.000,00	
	Interest Revenue	-	Rp600.000,00
B.	Cash	Rp1.800.000,00	
	Interest Receivable	-	Rp1.800.000,00
C.	Cash	Rp2.400.000,00	

	Interest Receivable	-	Rp1.800.000,00
	Interest Revenue	-	Rp600.000,00
D.	Cash		Rp2.400.000,00
	Interest Revenue	-	Rp2.400.000,00
E.	Cash		Rp2.400.000,00
	Interest Receivable	-	Rp600.000,00
	Interest Revenue	-	Rp1.800.000,00

48. Sebagian jurnal umum yang dibuat oleh Bengkel Metropolis pada bulan Juni 2010:

JURNAL UMUM

Hal: 01

Tanggal		Akun / keterangan	Ref	D	K
2010	05	Kas		Rp2.700.000,00	-
Juni		Pendapatan Jasa		-	Rp2.700.000,00
	08	Peralatan		Rp15.000.000,00	-
		Utang Usaha		-	Rp15.000.000,00
	11	Kas		Rp9.500.000,00	-
		Piutang Usaha		Rp5.500.000,00	
		Pendapatan Jasa			Rp16.000.000,00
	15	Utang Usaha		Rp3.500.000,00	
		Kas			Rp3.500.000,00

Data saldo per 01 Juni 2010 diketahui sebagai berikut:

- Saldo kas Rp18.700.000,00
- Saldo utang usaha Rp12.000.000,00

Berdasarkan data di atas, maka posting ke buku besar yang benar adalah....

A. Kas

No : 111

Tanggal	Keterangan	Ref	Debit	Kredit	Saldo	
					Debit	Kredit
01-6-10	Saldo		-	-	18.700.000	-
05-6-10	-		2.700.000	-	21.400.000	-
11-6-10	-		-	9.500.000	11.900.000	-
15-6-10	-			3.500.000	14.400.000	-

B. Utang Usaha

No : 211

Tanggal	Keterangan	Ref	Debit	Kredit	Saldo	
					Debit	Kredit
01-6-10	Saldo		-	-	12.000.000	-
08-6-10	-			15.000.000	27.00.000	-
15-6-10	-		3.500.000	-	23.500.000	-

C. Pendapatan Jasa

No : 411

Tanggal	Keterangan	Ref	Debit	Kredit	Saldo	
					Debit	Kredit
05-6-10			2.700.000	-	2.700.000	-
11-6-10	-		16.000.000	-	18.700.000	-

D. Peralatan

No : 121

Tanggal	Keterangan	Ref	Debit	Kredit	Saldo	
					Debit	Kredit
08-6-10	Saldo		-	15.000.000	-	15.000.000

E. Utang Usaha

No : 211

Tanggal	Keterangan	Ref	Debit	Kredit	Saldo	
					Debit	Kredit
01-6-10	Saldo		-	-	-	12.000.000
08-6-10			-	15.000.000	-	27.000.000
15-6-10			3.500.000	-	-	23.500.000

49.

DRY CLEANING "CEMERLANG"
ADJUSTED TRIAL BALANCE
DECEMBER 31, 2010

No.	Account titles	Debit	Credit
111	Cash	Rp188.000,00	-
112	Accounts Receivable	Rp7.440.000,00	-
113	Supplies	Rp 900.000,00	-
121	Equipment	Rp24.000.000,00	-
121.1	Accum. Depreciation Equipment	-	Rp3.750.000,00
211	Accounts Payable	-	Rp5.112.000,00
212	Notes Payable	-	Rp528.000,00
311	Tony, Capital	-	Rp19.278.000,00
311.1	Tony, Drawings	Rp1.500.000,00	-
411	Fees Earned	-	Rp18.240.000,00
412	Interest Income	-	Rp2.820.000,00
511	Salaries Expense	Rp5.580.000,00	-
512	Advertising Expense	Rp7.740.000,00	-
513	Miscellaneous Expense	Rp1.380.000,00	-
		Rp49.728.000,00	Rp49.728.000,00

Based on the data the amount of Ending Capital is...

- A. Rp23.638.000,00
- B. Rp24.138.000,00
- C. Rp14.418.000,00
- D. Rp11.418.000,00
- E. Rp6.360.000,00

50. Berikut adalah sebagian data keuangan yang terdapat pada Salon "Cantika" per 31 Desember 2010:

Kas	Rp15.500.000,00
Piutang Usaha	Rp8.500.000,00
Asuransi Dibayar Di muka	Rp12.000.000,00
Iklan Dibayar Di muka	Rp7.000.000,00
Peralatan Salon	Rp200.000.000,00
Akumulasi Penyusutan Peralatan Salon	Rp20.000.000,00

Modal Shanty	Rp250.000.000,00
Pendapatan Jasa	Rp75.500.000,00
Beban Gaji	Rp19.500.000,00
Beban Serba-serbi	Rp 1.250.000,00

Berdasarkan data di atas, jumlah Debit pada neraca saldo setelah penutupan sebesar....

- A. Rp223.000,00
- B. Rp243.000,00
- C. Rp263.750,00
- D. Rp283.750,00
- E. Rp473.000,00