



**SOAL SELEKSI
OLIMPIADE SAINS TINGKAT KABUPATEN/KOTA 2015
BIDANG EKONOMI**



Bidang Ekonomi

Waktu : 180 menit



KEMENTERIAN PENDIDIKAN DAN KEBUDAYAAN
DIREKTORAT JENDERAL MANAJEMEN PENDIDIKAN DASAR DAN MENENGAH
DIREKTORAT PEMBINAAN SEKOLAH MENENGAH ATAS

Alamat Kantor Jalan R.S.Fatmawati - Cipete Jakarta Selatan 12010
Telp. 75902679, 7694409, 7694140, **75912056**, **75914130** Fax. 7696033, **75912057**

PETUNJUK Pengerjaan Soal OSK Ekonomi

1. Periksalah terlebih dahulu soal yang Anda terima, apakah dalam keadaan baik, lengkap dan jelas, sebelum Anda mengerjakan!
2. Jumlah lembar soal pilihan ganda sebanyak 14 halaman.
3. Jawaban dikerjakan pada lembar jawaban yang telah disediakan.
4. Pengerjaan soal diperbolehkan menggunakan kalkulator hitung.
5. Jawaban pada pilihan ganda dengan memberikan tanda X (silang) pada pilihan jawaban yang Anda anggap benar. Untuk mengubah jawaban berilah tanda = pada jawaban yang anda anggap salah, kemudian silanglah jawaban yang Anda anggap benar lainnya. Jika menggunakan lembar isian komputer dengan cara menghitamkan pilihan pada huruf yang dianggap benar.
6. Disediakan lembar jawaban untuk mengerjakan soal
7. Waktu pengerjaan soal ekonomi 180 menit.
8. Jika sudah selesai mengerjakan serahkan lembar soal dan jawaban kepada pengawas.

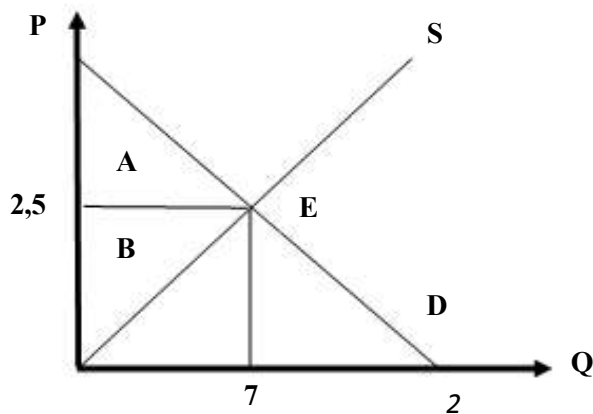
SOAL OLIMPIADE EKONOMI TINGKAT KABUPATEN/KOTA
TAHUN 2015

1. Menurut pengertian ilmu ekonomi, kemakmuran akan tercapai apabila
 - A. setiap orang dapat memenuhi kebutuhan pokok
 - B. semua sumber daya alam dapat dimanfaatkan sebaik-baiknya
 - C. setiap orang dapat mencapai kesejahteraan lahir dan batin
 - D. setiap orang dapat memenuhi bermacam-macam kebutuhannya
 - E. terdapat keseimbangan antara kebutuhan dan alat pemuas kebutuhan

2. Kurva penawaran es krim menunjukkan banyaknya es krim yang akan dijual pada berbagai tingkat harga. Berikut ini pernyataan yang tidak tepat sehubungan dengan kurva penawaran es krim
 - A. Kurva penawaran pasar es krim merupakan penjumlahan Horisontal dari kurva-kurva penawaran es krim individu.
 - B. Jika terjadi penurunan harga es krim, *ceteris paribus*, maka jumlah es krim yang ditawarkan ikut berkurang.
 - C. Kurva penawaran es krim memiliki *slope* yang positif, hal ini berarti jika harga es krim naik maka jumlah es krim yang ditawarkan meningkat.
 - D. Kenaikan pendapatan masyarakat akan menambah jumlah permintaan es krim, sehingga penawaran es krim turut meningkat, akibatnya kurva penawaran es krim bergeser ke kanan.
 - E. Jika harga gula turun, produsen es krim akan meningkatkan produksinya sehingga jumlah penawaran es krim meningkat, akibatnya kurva penawaran es krim akan bergeser ke kanan.

3. Sehubungan dengan titik keseimbangan pasar, manakah pernyataan di bawah ini yang tidak tepat,
 - A. Perpotongan antara kurva permintaan dengan kurva penawaran disebut titik keseimbangan atau ekuilibrium pasar.
 - B. Peningkatan jumlah penduduk berakibat pada bergesernya titik keseimbangan ke kanan sehingga terjadi kenaikan harga.
 - C. Pada harga keseimbangan, jumlah barang yang ingin dan mampu dibeli oleh pembeli sama dengan jumlah yang ingin dan benar-benar dijual.
 - D. Jika permintaan meningkat lebih besar dari peningkatan penawaran, maka titik keseimbangan bergeser ke kanan, akibatnya harga barang akan mengalami peningkatan.
 - E. Perubahan selera masyarakat terhadap suatu barang mengakibatkan bertambahnya penawaran, sehingga titik keseimbangan bergeser ke kanan, terjadi penurunan harga.

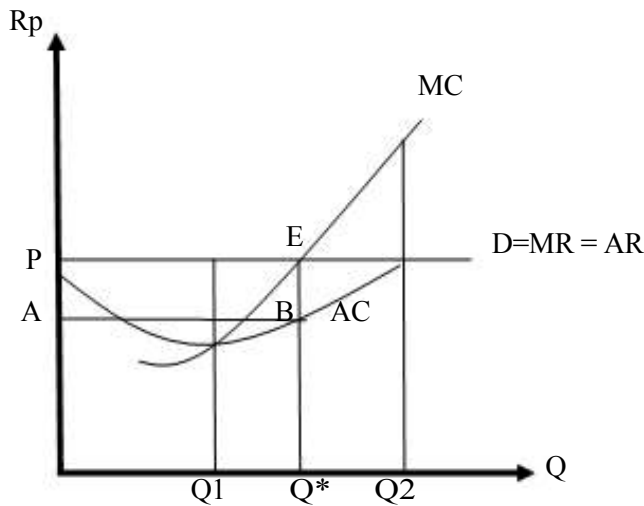
4. Diketahui kurva permintaan dan kurva penawaran telur di Makasar ditunjukkan dengan persamaan sebagai berikut: $Q_D = 100 - 20P$ dan $Q_S = 10 + 40P$, di mana Q_D adalah jumlah telur yang akan dibeli oleh warga Makasar, Q_S adalah jumlah telur yang cenderung dijual oleh peternak ayam petelur, dan P adalah harga telur per butir dalam ribuan rupiah.
Pernyataan yang tidak tepat berikut ini sehubungan dengan persamaan di atas adalah
- A. Pada ekuilibrium, banyaknya telur yang akan dijual adalah 70 butir pada harga Rp1.500,00/butir.
 - B. Ketika harga telur turun menjadi Rp1.200,00/butir, maka jumlah permintaan telur meningkat menjadi 58 butir.
 - C. Jumlah telur yang cenderung ditawarkan di pasar akan meningkat menjadi 82 butir jika harga telur naik menjadi Rp1.800,00/butir.
 - D. Jika harga telur naik di atas harga pasar yakni Rp2.000,00/butir, maka akan terjadi kelebihan penawaran telur sebanyak 20 butir.
 - E. Jika harga telur turun di bawah harga pasar yakni Rp1.000,00/butir, maka akan terjadi kelebihan permintaan telur sebanyak 10 butir.
5. Diketahui dari hasil survei bahwa rata-rata pendapatan/kapita masyarakat mengalami peningkatan dari Rp3.200.000,00 menjadi Rp4.800.000,00. Pada saat yang sama jumlah barang (X) yang ditawarkan turun dari 4.000 unit menjadi 3.000 unit dan jumlah barang (Y) yang diminta naik dari 6.000 unit menjadi 6.300 unit.
Berkaitan dengan elastisitasnya, pernyataan yang tepat dari data di atas adalah
- A. Barang (X) dan barang (Y) adalah barang substitusi.
 - B. Barang (X) adalah barang komplementer, sedangkan barang (Y) adalah barang normal.
 - C. Barang (X) adalah barang mewah, sedangkan barang (Y) adalah barang kebutuhan pokok.
 - D. Barang (X) adalah barang normal sedangkan barang (Y) adalah barang komplementer.
 - E. Barang (X) adalah barang inferior, sedangkan barang (Y) adalah barang kebutuhan pokok.
6. Perhatikan kurva berikut ini.



Pernyataan yang tepat di bawah ini sehubungan dengan kurva di atas adalah

- A. Surplus konsumen (daerah A) dinikmati oleh konsumen sub marginal, yaitu konsumen yang daya belinya di atas harga pasar.
 - B. Surplus produsen (daerah A) dinikmati oleh produsen sub marginal, yaitu produsen yang ongkos produksinya di atas harga pasar.
 - C. Surplus konsumen (daerah B) dinikmati oleh konsumen super marginal, yaitu konsumen yang daya belinya di bawah harga pasar.
 - D. Surplus produsen (daerah B) dinikmati oleh produsen super marginal, yaitu produsen yang ongkos produksinya di bawah harga pasar.
 - E. Surplus konsumen/produsen (E) dinikmati oleh konsumen/produsen marginal, yaitu konsumen/produsen yang daya beli/daya saingnya sama dengan harga pasar.
7. Sebagian besar penduduk daerah A hidup dari usaha menangkap ikan di laut, daerah B hidup dari usaha mengambil hasil hutan. Dalam ilmu ekonomi jenis usaha produksi yang dilakukan oleh sebagian besar penduduk kedua daerah itu adalah
- A. jasa
 - B. agraris
 - C. industri
 - D. ekstraktif
 - E. perdagangan

8. Perhatikan kurva keseimbangan berikut ini.



Pernyataan yang tidak tepat dari kurva keseimbangan di atas adalah

- A. Perusahaan berusaha memproduksi pada saat $MC=MR$ agar perusahaan memperoleh laba maksimum
- B. Laba yang diperoleh perusahaan adalah sama dengan luas bidang ABEP, disebut juga laba super normal

- C. Kurva keseimbangan di atas adalah kurva keseimbangan jangka pendek dalam pasar persaingan sempurna
- D. Perusahaan maksimal memproduksi sebanyak Q2, karena biaya rata-rata masih dibawah tambahan biaya total
- E. Jika perusahaan memproduksi sebesar Q1, maka masih diperkenankan untuk menambah output, karena tambahan penerimaan masih lebih besar dari tambahan biaya

9. Perhatikan data berikut ini.

No	Nama Barang	Harga (Rp)		
		Th 2012	Th 2013	Th 2014
1	Beras	9.000	9.500	11.500
2	Gula	8.000	11.000	13.000
3	Terigu	6.000	9.000	11.000

Apabila dihitung dengan metode indeks harga agregatif sederhana dengan tahun dasar 2012, maka tingkat inflasi tahun 2014 berdasarkan keparahannya adalah

- A. Hyper inflasi
 - B. Inflasi berat
 - C. Inflasi sedang
 - D. Inflasi ringan
 - E. Inflasi sangat ringan
10. Suatu negara mempunyai data tentang pendapatan nasional berikut ini:
 Produk Nasional Bruto =RP 865.000 M
 Pendapatan perusahaan asing di negara tersebut RP 130.000 M
 Pendapatan warga negara di luar negeri RP 45.000 M
 Berdasarkan data di atas besarnya pendapatan domestik bruto adalah.....
- A. RP 690.000 M
 - B. RP 735.000 M
 - C. RP 820.000 M
 - D. RP 910.000 M
 - E. RP 950.000 M
11. Perekonomian negara Hebat sedang dilanda inflasi. Pemerintah berencana menggunakan kebijakan fiskal dengan mengatur APBN yang difungsikan sebagai pengendali perekonomian. Salah satunya dapat dilakukan dengan cara.....
- A. mengurangi tabungan negara
 - B. menambah anggaran subsidi BBM
 - C. penarikan pajak dikurangi jumlahnya
 - D. menciptakan tertib anggaran pengeluaran
 - E. mengurangi/menunda beberapa pengeluaran

12. Bu Ani berwiraswasta di bidang pembuatan kue lapis. Untuk menghasilkan 10 cetak kue lapis diperlukan biaya tetap Rp500.000,00 dan biaya variabel Rp30.000,00 per cetak. Apabila kue tersebut dijual dengan harga Rp100.000,00 per cetak, maka bu Wahyu akan memperoleh
- laba Rp200.000,00
 - rugi Rp200.000,00
 - laba Rp470.000,00
 - rugi Rp470.000,00
 - laba Rp800.000,00
13. Penerimaan total bu Susi sebagai seorang produsen kue ditunjukkan oleh persamaan $TR = 2.000Q - 8Q^2$ dan biaya total ditunjukkan oleh persamaan $TC = 10.000 + 400Q$, maka perusahaan bu Susi akan memperoleh
- laba maksimum 75.000
 - rugi minimum 70.000
 - laba maksimum 70.000
 - rugi minimum 150.000
 - laba maksimum 150.000
14. Negara Alengka sedang menghadapi krisis finansial, beberapa perusahaan harus melakukan rasionalisasi agar bisa bertahan dalam menghadapi krisis tersebut. Bu Retno terpaksa menerima kenyataan bahwa perusahaannya harus ditutup karena tidak sanggup bertahan. Namun demikian bu Retno masih sanggup melunasi semua kewajiban yang harus dipenuhinya ketika perusahaannya dilikuidasi. Kemampuan bu Retno dalam memenuhi kewajibannya ini terkait dengan masalah
- Likuiditas
 - Solvabilitas
 - Rentabilitas
 - Rasionalitas
 - Profitabilitas
15. Terdapat beberapa perusahaan efek dan lembaga penunjang yang menyediakan jasa-jasa, baik bagi emiten maupun investor di pasar modal, antara lain,

A	B	C
1. Biro Administrasi Efek	1. Wali Amanat	1. Notaris
2. <i>Under Writer</i>	2. Akuntan Publik	2. Konsultan Hukum
3. Kustodian	3. Penilai	3. Pemeringkat Efek

Dari informasi di atas, yang terlibat dalam kegiatan penawaran efek di pasar perdana adalah butir

- A1, B1, C2, dan C3
- A1, B1, B2, dan C1
- A2, B2, B3, dan C2
- A2, B2, C1, dan C3

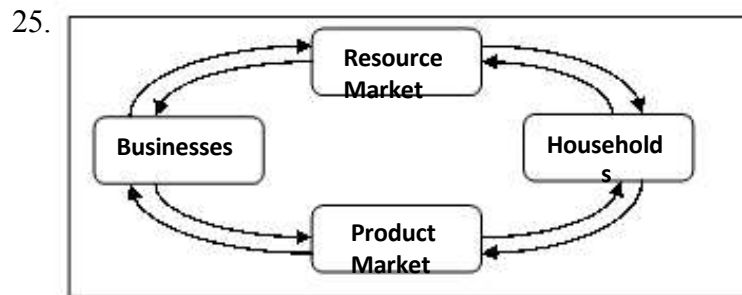
- E. A3, B2, B3, dan C1
16. Bank Sentral akan menetapkan batas maksimum pemberian kredit jika
- A. harga-harga barang mengalami penurunan yang drastis
 - B. jumlah uang beredar belum melebihi kebutuhan
 - C. harga-harga barang mengalami kenaikan yang tinggi
 - D. peredaran barang di pasaran mengalami kelesuan
 - E. banyak orang menyimpan uangnya di bank
17. Uang yang berbahan baku bernilai rendah selalu mendesak keluar uang yang berbahan baku bernilai tinggi merupakan inti dari hukum
- A. Engel
 - B. Meyer
 - C. Malthus
 - D. Gresham
 - E. Irving Fisher
18. Dalam dunia usaha permintaan kredit kepada bank masih berlaku ketentuan 5C, termasuk pertimbangan *Capacity* dalam 5C adalah.....
- A. reputasi pribadi calon peminjam menyangkut kebiasaan sifat dan watak
 - B. ketepatan distribusi modal yang ditempatkan oleh calon peminjam
 - C. keadaan ekonomi secara keseluruhan dan kondisi sektor usaha calon peminjam
 - D. kemampuan yang menyangkut calon peminjam dalam mengembalikan pinjaman
 - E. ada tidaknya jaminan dari calon peminjam apabila terdapat keraguan dalam pemberian kredit
19. Pemerintah Daerah Sumatra Selatan berencana memberikan porsi pembagian pajak yang lebih besar pada tahun anggaran 2015 untuk pemerataan pembangunan bagi daerah tertinggal dan daerah miskin. Dalam hal ini berarti pajak melakukan fungsi
- A. alokasi
 - B. distribusi
 - C. mengatur
 - D. stabilisasi
 - E. pembiayaan
20. Di bawah ini merupakan kegiatan perangkat organisasi koperasi.
- (1) Menyusun rancangan rencana kerja dan rencana anggaran pendapatan dan belanja koperasi
 - (2) Menetapkan rencana kerja dan rencana anggaran pendapatan dan belanja koperasi
 - (3) Mengangkat dan memberhentikan pengurus
 - (4) Menetapkan pembagian Selisih Hasil Usaha
 - (5) Mengawasi administrasi keuangan koperasi
- Yang merupakan tugas rapat anggota adalah butir
- A. (1), (2), dan (3)
 - B. (1), (3), dan (5)

- C. (2), (3), dan (4)
 D. (2), (4), dan (5)
 E. (3), (4), dan (5)
21. Manajer suatu perusahaan melakukan kegiatan-kegiatan berikut ini:
 (1) menempatkan perusahaan dalam pelayanan
 (2) melakukan pelayanan purnajual
 (3) persediaan bahan baku
 (4) mendesain proses
 (5) pengendalian mutu
 (6) memilah lapisan pasar
 Kegiatan-kegiatan di atas yang berhubungan langsung pada manajemen produksi adalah butir ...
 A. (1), (2), dan (3)
 B. (1), (3), dan (5)
 C. (2), (3), dan (4)
 D. (2), (4), dan (6)
 E. (3), (4), dan (5)
22. Nilai tukar Rupiah terhadap Dolar AS pada tahun 2014 mengalami sedikit penurunan yaitu dari Rp12.600,00/per Dolar AS ke Rp12.800,00/per Dolar AS. Penurunan ini disebabkan oleh ...
 A. meningkatnya perdagangan ekspor ke luar negeri
 B. banyak masyarakat Indonesia yang berlibur ke luar negeri
 C. membanjirnya dana bantuan dari luar negeri untuk korban bencana alam Gunung Sinabung
 D. perubahan harga pada barang tertentu dari negara lain sehingga permintaan barang tersebut meningkat
 E. utang luar negeri Indonesia jangka pendek telah jatuh tempo dijadwalkan kembali karena kondisi negara yang belum pulih
23. Perhatikan tabel berikut ini.

Impor		Ekspor	
Kayu lapis	Rp 30.000.000,00	Mobil	Rp 45.000.000,00
Migas	Rp 50.000.000,00	Sepeda motor	Rp 32.000.000,00
Teh	Rp 5.000.000,00	Pesawat TV	Rp 7.000.000,00
Kopi	Rp 11.000.000,00	Sandang	Rp 10.000.000,00
Tekstil	Rp 15.000.000,00	Beras	Rp 14.000.000,00
Lain-lain	Rp 19.000.000,00	Saldo	Rp 22.000.000,00
Rp130.000.000,00		Rp130.000.000,00	

Neraca Perdagangan Negara Pandawa di atas mencerminkan

- A. nilai ekspor sama dengan impor
 - B. devisa Negara Pandawa meningkat
 - C. nilai impor lebih besar dari nilai ekspor
 - D. pertumbuhan produksi dalam negeri seimbang
 - E. nilai barang ekspor lebih besar dari nilai impor
24. There is a country in which the government owns all the industries, businesses, and farms. The government sets production and wages. The government provides all education, childcare, and medical care for all the people. What type of economy does this describe ...
- A. Mixed economic system
 - B. Market system
 - C. Traditional system
 - D. Command system
 - E. Monopoly system



- The resource market is the place where...
- A. households sell products and businesses buy product
 - B. businesses sell resources and households sell products
 - C. businesses sell resources and households buy resources (or the services of resources)
 - D. households sell resources and business buy resources (or the services of resources)
 - E. none of the answer is correct
26. If a buyer's willingness to pay for a new car is \$ 50,000 and she is able to actually buy it for \$ 48,000, then he has ...
- A. consumer surplus \$ 2,000
 - B. consumer surplus \$ 48,000
 - C. consumer surplus \$ 50,000
 - D. consumer surplus \$ 98,000
 - E. consumer surplus \$ 0
27. When quantity of supply increases at every possible price, we know that the demand curve has ...
- A. shifted to the right

- B. shifted to the left
C. not shifted, rather, we have moved down the supply curve to a new point on the same curve
D. not shifted, rather, we have moved up the supply curve to a new point on the same curve
E. not shifted, the supply curve has become flatter
28. Apabila diketahui fungsi biaya total $(TC) = 2Q^2 - 4yQ + 20$ maka fungsi MC adalah
- A. $4Q - 4yQ + 20$
B. $4Q - 4y$
C. $4Q - 4yQ$
D. $Q - 4yQ$
E. $2yQ$
29. A country has data of national income as follows :
- | | |
|---|------------|
| <input type="checkbox"/> Employee salary | \$ 200,000 |
| <input type="checkbox"/> Society consumption | \$ 215,000 |
| <input type="checkbox"/> Profit | \$ 46,000 |
| <input type="checkbox"/> Rent | \$ 36,400 |
| <input type="checkbox"/> Government consumption | \$ 97,600 |
| <input type="checkbox"/> Capital interest | \$ 33,500 |
| <input type="checkbox"/> Mining | \$ 25,200 |
| <input type="checkbox"/> Export | \$ 27,500 |
| <input type="checkbox"/> Import | \$ 33,700 |
- If the national income is counted using the income method, then the result ...
- A. \$ 25,200
B. \$ 315,900
C. \$ 339,900
D. \$ 546,100
E. \$ 714,900
30. Which of the following is a variable cost in the short run?
- A. Rent of the factory
B. Interest payments on borrowed financial capital
C. Wages paid to factory labour
D. Payment on the lease for factory equipment
E. Salaries paid to upper management
31. Apabila ditetapkan *reserve requirement ratio* adalah 5%, maka penambahan uang kartal sebanyak Rp 20 miliar akan menciptakan jumlah uang beredar sebanyak ...
- A. Rp 10 miliar
B. Rp 20 miliar
C. Rp 100 miliar

- D. Rp 200 miliar
 - E. Rp 400 miliar
32. When interest rate increases, new residential housing prices tend to decrease. This observation indicates that ...
- A. There must be false causality between interest rates and housing prices
 - B. Higher interest rates must cause low housing prices
 - C. A scatter diagram between interest rates and housing prices will show negative relationship
 - D. A scatter diagram between interest rates and housing prices will show a direct relationship
 - E. There is no relationship between interest rates and housing prices
33. Apabila diketahui persamaan konsumsi $C = 20 + 0,90Y$, maka konsumsi yang dilakukan adalah sebanyak ...
- A. 90 jika pendapatan dispersebel 100
 - B. 100 jika pendapatan dispersebel 90
 - C. 180 jika pendapatan dispersebel 200
 - D. 110 jika pendapatan dispersebel 100
 - E. 200 jika pendapatan dispersebel 220
34. Kebijakan moneter kontraktif dapat dilakukan dengan cara...
- A. membeli surat-surat berharga yang ada di masyarakat
 - B. menaikkan tingkat suku bunga bank
 - C. mempermudah pemberian kredit
 - D. menurunkan giro wajib minimum
 - E. meningkatkan penerimaan di sektor pajak
35. Berikut yang termasuk sebagai pengangguran konjungtur adalah
- A. Rony berhenti bekerja karena ingin mencari pekerjaan baru yang lebih sesuai dengan keterampilan yang dimilikinya
 - B. Darwis kehilangan pekerjaan karena perusahaan tempatnya bekerja mengalami kebangkrutan akibat resesi ekonomi
 - C. Farhat tidak lagi bekerja karena ingin melanjutkan pendidikannya
 - D. Raka Amat tidak lagi bekerja karena sawah tempatnya bekerja sudah berganti menjadi pabrik
 - E. Jontu tidak ingin bekerja karena memiliki warisan yang sangat banyak

36. Informasi keadaan perusahaan yang terdiri atas ikhtisar aset, liabilitas dan ekuitas dilaporkan dalam ...
- A. Laporan laba rugi
 - B. Laporan posisi keuangan
 - C. Laporan kemajuan usaha
 - D. Laporan perubahan modal
 - E. Laporan arus kas

37. Dibeli perlengkapan kantor seharga Rp2.300.000,00 yang dibayar dengan Cek Rp1.000.000,00 dan sisanya dibayar kemudian. Pencatatan transaksi tersebut pada jurnal adalah ...

A. Perlengkapan kantor Rp2.300.000,00
Cek Rp1.000.000,00
Utang Rp1.300.000,00

B. Perlengkapan kantor Rp2.300.000,00
Kas Rp1.000.000,00
Utang Rp1.300.000,00

C. Peralatan kantor Rp2.300.000,00
Kas Rp1.300.000,00
Utang Rp1.000.000,00

D. Perlengkapan kantor Rp2.300.000,00
Kas Rp1.000.000,00
Utang Rp1.300.000,00

E. Perlengkapan kantor Rp2.300.000,00
Cek Rp1.300.000,00
Utang Rp1.000.000,00

38. Pada neraca saldo per 31 Desember 2014 terdapat akun sewa dibayar di muka sebesar Rp2.400.000,00. Sewa tersebut dibayar tanggal 1 April 2014 untuk masa dua tahun. Penyesuaian per 31 Desember 2014 adalah.....

A. Pendapatan sewa Rp900.000,00
Sewa dibayar di muka Rp900.000,00

B. Sewa dibayar di muka Rp900.000,00
Pendapatan sewa Rp900.000,00

C. Beban sewa Rp1.500.000,00
Sewa dibayar di muka Rp1.500.000,00

D. Beban sewa Rp900.000,00
Sewa dibayar di muka Rp900.000,00

E. Kas	Rp1.500.000,00
Sewa dibayar di muka	Rp1.500.000,00

39. Pada tanggal 31 Desember 2014 gaji yang masih harus dibayar sebesar Rp6.000.000,00.

Jurnal pembalik yang dibutuhkan adalah.....

A. Beban gaji	Rp6.000.000,00
Utang gaji	Rp6.000.000,00

B. Beban gaji	Rp6.000.000,00
Ikhtisar Laba Rugi	Rp6.000.000,00

C. Ikhtisar Laba Rugi	Rp6.000.000,00
Beban gaji	Rp6.000.000,00

D. Utang gaji	Rp6.000.000,00
Ikhtisar Laba Rugi	Rp6.000.000,00

E. Utang gaji	Rp6.000.000,00
Beban gaji	Rp6.000.000,00

40. Diambil barang dagangan untuk keperluan pribadi seharga Rp300.000,00 oleh Salim (pemilik). Transaksi ini dicatat pada jurnal.....

- A. Pembelian
- B. Penjualan
- C. Penerimaan kas
- D. Pengeluaran kas
- E. Umum

41. Bengkel Amir memiliki data keuangan per 31 Desember 2014 sebagai berikut:

- Modal akhir	Rp10.000.000,00
- Pendapatan jasa	Rp5.000.000,00
- Pengambilan pribadi	Rp500.000,00
- Beban sewa	Rp1.500.000,00
- Beban listrik dan telepon	Rp200.000,00
- Pendapatan diterima di muka	Rp150.000,00

Berdasarkan data di atas, maka besarnya modal awal Bengkel Amir adalah.....

- A. Rp3.300.000,00
- B. Rp3.450.000,00
- C. Rp7.200.000,00
- D. Rp7.350.000,00
- E. Rp12.800.000,00

42. Form the report contains the accounts and the account balance of the ledger at any given time...
- A. balance
 - B. income statement
 - C. trial balance
 - D. work sheet
 - E. statement of cash flows
43. The level of ability to pay the short term debt the maturity can be seen in the comparison between.....
- A. capital and liabilities
 - B. all assets and current liabilities
 - C. all assets and all liabilities
 - D. current assets and current liabilities
 - E. current assets and all liabilities
44. Accounts that normally have credit balance is
- A. Prepaid expense
 - B. Salary expenses
 - C. Accrued expense
 - D. Owner's drawing
 - E. Cash received from customer
45. What is intangible asset?
- A. Long-live physical asset to be used in the operation of the company
 - B. Asset that have no physical existence but are right having value
 - C. Asset which is reasonably expected to be converted into cash
 - D. Asset which is used during normal operating cycle of the business
 - E. The obligation which is mature in one year
46. The effect of Accrued expense
- A. decrease assets
 - B. decrease liabilities
 - C. increase liabilities
 - D. increase controlling accounts
 - E. increase owner's capital
47. Perubahan laporan arus kas dikelompokkan dalam 3 kelompok, yaitu operasional, investasi, dan pembelanjaan. Transaksi yang termasuk dalam kelompok pembelanjaan adalah
- A. Pembelian kembali sekuritas ekuitas yang diterbitkan perusahaan
 - B. Penerimaan penjualan aktiva tetap
 - C. Pendapatan bunga bank atau pinjaman

- D. Pembelian obligasi jangka panjang perusahaan lain
 - E. Pembayaran gaji pegawai
48. The receipts of cash from customers in payment of their accounts would be recorded by
- A. A debit to account payable and credit to cash
 - B. A debit to cash and credit to account payable
 - C. A debit to account payable and credit to bank
 - D. A debit to cash and credit to account receivable
 - E. A debit to account receivable and credit to cash
49. During the period of 2014, CV Jaya Abadi realized there was an error in recording the transaction. A debit of Rp1.000.000,00 to wages expenses was posted as Rp1.250.000,00. What is the journal should be made to correct that error?
- A. A debit to wages expense and credit to cash for the amount of Rp250.000,00
 - B. A debit to cash and credit to account receivable for the amount of Rp250.000,00
 - C. A debit to cash and credit to wages expense for the amount of Rp250.000,00
 - D. A debit to account payable and credit to cash for the amount of Rp1.000.000,00
 - E. A debit of account receivable and credit to cash for the amount of Rp1.000.000,00
50. Perusahaan memiliki 10 orang karyawan di mana gaji karyawan dibayar setiap tanggal 25 dan besarnya gaji yang harus dibayarkan adalah Rp 50.000,00/orang/hari. Dengan asumsi tersebut, gaji terakhir akan dibayarkan pada tanggal 25 Desember. Bagaimana jurnal penyesuaian yang harus dibuat pada tanggal 31 Desember?
- A. (D) Beban gaji, (K) Utang gaji masing-masing sebesar Rp3.000.000,00
 - B. (D) Beban gaji, (K) Kas masing-masing sebesar Rp3.000.000,00
 - C. (D) Beban gaji, (K) Utang gaji masing-masing sebesar Rp12.500.000,00
 - D. (D) Beban gaji, (K) Kas masing-masing sebesar Rp12.500.000,00
 - E. (D) Utang gaji, (K) Beban Gaji masing-masing sebesar Rp3.000.000,00