


HAK CIPTA
DILINDUNGI UNDANG-UNDANG



**SOAL SELEKSI
OLIMPIADE SAINS TINGKAT KABUPATEN/KOTA 2017
BIDANG EKONOMI**



Bidang Ekonomi

Waktu : 180 menit

**KEMENTERIAN PENDIDIKAN DAN KEBUDAYAAN
DIREKTORAT JENDERAL PENDIDIKAN DASAR DAN MENENGAH
DIREKTORAT PEMBINAAN SEKOLAH MENENGAH ATAS
TAHUN 2017**

Pilihlah salah satu jawaban di bawah ini dengan menghitamkan huruf A, B, C, D, E yang anda anggap benar!

1. Berikut ini adalah komponen-komponen biaya produksi:

- (1) Membayar gaji.
- (2) Membayar sewa gedung untuk kantor.
- (3) Membeli bahan baku.
- (4) Membayar upah.
- (5) Membayar bunga pinjaman dari bank.

Komponen-komponen di atas yang merupakan biaya tetap adalah nomor

- a. (1), (2), dan (3)
- b. (1), (2), dan (5)
- c. (1), (3), dan (5)
- d. (2), (3), dan (4)
- e. (2), (3), dan (5)

2. Haura diterima kuliah di Fakultas Kedokteran Universitas Gadjah Mada (UGM). Haura juga diterima bekerja penuh waktu (full time) di Perusahaan A dengan gaji Rp5.000.000,00/bulan, dan di pabrik B dengan gaji Rp4.000.000,00/bulan. Dengan memanfaatkan sisa waktu yang ada bila bekerja di pabrik B, Haura masih mendapatkan tambahan penghasilan Rp2.000.000,00/bulan. Jika Haura memutuskan kuliah di Fakultas Kedokteran UGM, maka biaya peluangnya sebesar

- a. Rp11.000.000,00
- b. Rp6.000.000,00
- c. Rp5.000.000,00
- d. Rp4.000.000,00
- e. Rp2.000.000,00

3. Garis anggaran untuk dua macam barang, yakni baju dan celana, akan bergeser ke kiri (dalam keadaan *ceteris paribus*) bila

- a. pendapatan konsumen meningkat

- b. harga baju naik
- c. harga baju turun
- d. harga celana turun
- e. harga baju dan harga celana naik

4. Perhatikan matrik di bawah ini!

No	Contoh	Alasan
1	Membeli barang dengan menawar harga-nya terlebih dahulu.	Karena barang tersebut terlebih dahulu perlu dicermati dan dibandingkan, baik bentuk, kualitas, maupun harga-nya berdasarkan akal sehat.
2	Membuat skala prioritas.	Karena dengan membuat skala prioritas, kita dapat membeli barang sesuai kebutuhan, dan dengan didasari akal sehat.
3	Mendahulukan yang lebih penting.	Karena kebutuhan yang lebih penting itu merupakan kebutuhan yang harus diutamakan.

Pernyataan tersebut merupakan perwujudan dari

- a. tindakan ekonomi
- b. berpikir ekonomi
- c. motif ekonomi
- d. politik ekonomi
- e. prinsip ekonomi

5. Perhatikan matrik di bawah ini!

No	Penjelasan	2015	2016
1.	Tingkat pengangguran di Indonesia.	7,24 juta	7,56 juta
2.	Produk sepatu yang dihasilkan.	300 psg	340 psg
3.	Laju inflasi.	3%	3,4%
4.	Laba perusahaan (kenaikan).	4%	5%

- Dari keempat pernyataan tersebut, yang merupakan masalah mikro ekonomi adalah pernyataan nomor
- 1 dan 3
 - 1 dan 2
 - 2 dan 3
 - 2 dan 4
 - 1 dan 4
6. Penerimaan total seorang produsen ditunjukkan oleh persamaan $TR = 200Q - 5Q^2$ dan biaya total ditunjukkan oleh persamaan $TC = 100Q$. Berdasarkan persamaan tersebut, perusahaan memperoleh
- laba maksimum 250
 - rugi minimum 250
 - laba maksimum 500
 - rugi minimum 750
 - laba maksimum 1.000
7. Sumbu vertikal dan horizontal pada kurva produk total (TP) dan kurva produk marginal (MP) adalah
- harga dan kuantitas barang
 - biaya produksi dan kuantitas barang
 - kuantitas barang dan jumlah tenaga kerja
 - jumlah modal dan jumlah tenaga kerja
 - kuantitas barang X dan barang Y yang diproduksi
8. These are the correct statement about The Law of Diminishing Returns Curve, EXCEPT
- a curve that shows combination of adding variable input continuously with constant input

- b. the beginning step of adding variable input increase Total Product and Marginal Product
 - c. starting at certain time Marginal Product will decrease, while Total Product increase
 - d. the law of diminishing returns will occur when Total Product decrease
 - e. when Total Product reach its maximum, Marginal Product = 0
- 9 Berikut ini adalah faktor-faktor yang dapat memengaruhi permintaan dan penawaran suatu barang:
- (1) Jumlah produsen.
 - (2) Harga barang substitusi.
 - (3) Prediksi harga di waktu mendatang.
 - (4) Harga bahan baku.
 - (5) Distribusi pendapatan.
 - (6) Kemajuan teknologi.
- Faktor-faktor di atas yang memengaruhi permintaan barang adalah nomor
- a. (1), (2), dan (3)
 - b. (1), (2), dan (5)
 - c. (2), (3), dan (5)
 - d. (2), (3), dan (6)
 - e. (3), (4), dan (5)
- 10 Diketahui fungsi permintaan $P = 30 - Q$ dan fungsi penawaran $P = 6 + 0,5Q$. Jika diketahui pemerintah mengenakan pajak $T = 3$ per unit, maka harga dan jumlah/kuantitas keseimbangan setelah pajak adalah
- a. harga Rp12,00; jumlah 14 unit
 - b. harga Rp14,00; jumlah 12 unit
 - c. harga Rp16,00; jumlah 14 unit
 - d. harga Rp16,00; jumlah 16 unit
 - e. harga Rp26,00; jumlah 16 unit

- 11 A total cost curve shows the relationship between the
- quantity of an input used and the total cost of production
 - quantity of output produced and the total cost of production
 - quantity of output produced and the total of labor used
 - total cost of production and profit
 - total cost of production and total revenue

- 12 Perhatikan pernyataan-pernyataan berikut.
- Pengaturan seluruh sektor jasa keuangan.
 - Penguatan sistem keuangan.
 - Pengawasan seluruh sektor jasa keuangan.
 - Pembinaan seluruh sektor industri.
 - Perlindungan konsumen jasa keuangan.

Sesuai dengan amanat Undang-Undang Nomor 21 Tahun 2011 tentang Otoritas Jasa Keuangan, OJK memiliki peran di bidang, yang ditunjukkan oleh nomor

- (1), (2), dan (3)
- (1), (3), dan (5)
- (2), (3), dan (5)
- (2), (4), dan (5)
- (3), (4), dan (5)

- 13 Beberapa manfaat pasar modal adalah sebagai berikut:

No	A	B	C
1	Mengatasi inflasi.	Mengatasi deflasi.	Lapangan kerja.
2	Sebagai wahana investasi.	Mengawasi industri keuangan.	Mendorong kreativitas usaha.
3	Meningkatkan pajak.	Meningkatkan kekayaan.	Melindungi industri.

Berdasarkan pernyataan-pernyataan di atas, yang termasuk manfaat pasar modal bagi investor, pemerintah dan masyarakat adalah

- a. A1, B2, dan C1
- b. A2, B2, dan C3
- c. A3, B1, dan C2
- d. A1, B2, dan C3
- e. A2, B3, dan C1

14 Proses dalam asuransi terdapat dalam pernyataan-pernyataan berikut.

- (1) Calon nasabah mengisi formulir penutupan asuransi.
- (2) Tertanggung menerima polis.
- (3) Tertanggung membayar premi.
- (4) Calon nasabah memiliki kebutuhan asuransi.
- (5) Perusahaan asuransi survei objek pertanggungan.

Urutan proses penutupan asuransi/pembelian asuransi yang tepat adalah nomor

- a. (1), (2), (4), (5), dan (3)
- b. (2), (3), (1), (4), dan (5),
- c. (3), (1), (2), (4), dan (5)
- d. (4), (1), (5), (2), dan (3)
- e. (5), (1), (2), (4), dan (3)

15 Meningkatkan motivasi pekerja sewaktu masih aktif bekerja dan memberi kesinambungan penghasilan di masa pensiun merupakan

- a. manfaat pensiun
- b. tujuan pensiun
- c. motif pensiun
- d. prinsip pensiun
- e. fungsi pensiun

16 Perhatikan matriks di bawah ini!

Fungsi badan usaha meliputi fungsi komersial, fungsi sosial, dan fungsi ekonomi.

No.	Fungsi Komersial (A)	Fungsi Sosial (B)	Fungsi Ekonomi (C)
1	Fungsi Manajemen.	Fungsi Operasional.	Fungsi Teknis.
2	Pemanfaatan SDM.	Alih Teknologi.	Pemanfaatan SDA.
3	Pencegahan Pencemaran Lingkungan.	Pajak Badan Usaha.	Peningkatan Ekspor.

Berdasarkan matriks di atas, pasangan yang tepat adalah

- a. A1, B2, dan C1
 - b. A1, B2, dan C2
 - c. A1, B2, dan C3
 - d. A2, B2, dan C3
 - e. A2, B3, dan C1
- 17 Perseroan terbatas (PT) adalah badan hukum perusahaan yang paling banyak digunakan dan diminati oleh para pengusaha. Penyebabnya adalah karena badan hukum seperti ini memiliki banyak kelebihan jika dibandingkan dengan badan hukum lainnya. Berikut ini adalah ciri utama perusahaan yang berbentuk badan hukum perseroan terbatas.
- a. Kewajiban terhadap pihak luar terbatas hanya kepada modal yang disetorkannya. Artinya, jika perusahaan menanggung utang, maka kewajiban pemilik hanya terbatas kepada modal yang disetorkan. Oleh karena itu harta pribadi tidak ikut dijaminakan untuk membayar kewajiban tersebut.
 - b. Tidak mudah untuk alih kepemilikan, artinya jika seseorang memegang saham perusahaan tersebut kemudian ingin menjualnya dengan berbagai sebab, maka tidak mudah dapat dipindahtangankan atau dijual ke pihak lain
 - c. Usia PT terbatas, artinya perusahaan yang berbentuk perseroan memiliki usia yang terbatas. Jika tidak mampu untuk beroperasi di saat pemilik atau manajemennya meninggal dunia maka tidak dapat dilanjutkan oleh pemilik saham lainnya.
 - d. Kesulitan untuk menghimpun dana dalam jumlah yang besar, artinya jika perusahaan ingin memperoleh modal dalam jumlah yang besar, maka tidak mudah pihak kreditor untuk memercayainya.

e. Kebebasan untuk melakukan berbagai aktivitas bisnis, baik jenis atau bidang usaha maupun wilayah operasinya sangat terbatas.

18 Badan Usaha Milik Negara (BUMN) adalah badan usaha yang seluruh modalnya berasal dari kekayaan negara yang disisihkan. Tujuan BUMN adalah melayani dan mencukupi kebutuhan masyarakat umum, meningkatkan kemakmuran dan menambah kas negara untuk membiayai pembangunan, dan membuka lapangan pekerjaan. Perusahaan Negara Perseroan (Persero) adalah bentuk badan usaha ...,

a. milik negara yang seluruh modalnya dimiliki oleh pemerintah, berorientasi pelayanan pada masyarakat, sehingga selalu merugi. Contoh: PJKA (Perusahaan Jawatan Kereta Api) kini berganti menjadi PT. KAI.

b. dikelola oleh negara dengan status pegawainya sebagai Pegawai Negeri Sipil. Namun demikian perusahaan masih merugi, sehingga pemerintah terpaksa menjual sebagian sahamnya kepada publik (*go public*) dan statusnya mengalami perubahan. Contoh : Perum Peruri.

c. dikelola oleh negara atau daerah, dengan tujuan mencari keuntungan dan memberi pelayanan kepada umum. Modal pendiriannya berasal sebagian atau seluruhnya dari kekayaan negara yang dipisahkan berupa saham-saham. Contoh: PT Bank Rakyat Indonesia.

d. modalnya berasal dari kekayaan daerah, dengan tujuan memberikan pelayanan terhadap masyarakat di wilayah tertentu. Contoh: PDAM.

e. modalnya berasal dari pihak swasta dan sebagian lagi berasal dari pemerintah. Tujuan usahanya nirlaba.

19 Perhatikan matriks di bawah ini!

A	B
1. Simpanan pokok	1. Simpanan wajib
2. Dana cadangan	2. Hibah
3. Pinjaman anggota	3. Pinjaman bank
4. Obligasi	4. Surat utang
5. Saham	5. Dana bantuan

Permodalan koperasi diperoleh dari dua macam sumber, yaitu modal sendiri dan modal pinjaman. Berdasarkan matriks tersebut di atas, yang merupakan modal sendiri adalah

- a. A1, A2, A3, dan A4
- b. A1, A2, B1, dan B2
- c. A2, A3, A4, dan A5
- d. B1, B2, B3, dan B4
- e. B2, B3, A2, dan A3

20. Pengurus OSIS salah satu SMA di kota Bogor, memiliki rencana tahunan berupa pagelaran pentas seni dan pasar hasil karya siswa. Tiga bulan sebelum acara dilaksanakan, panitia menyusun dan mengajukan proposal yang berisi tata cara pelaksanaan kegiatan serta anggaran penerimaan dan pengeluaran dana kepada pihak sekolah. Kegiatan yang dilakukan panitia tersebut merupakan penerapan salah satu fungsi manajemen, yaitu

- a. *Forecasting*
- b. *Controlling*
- c. *Planning*
- d. *Organizing*
- e. *Actuating*

21. Ibu Tuti memiliki keahlian dan inovasi dalam memadukan desain baju kebaya dengan “detail acrylic bebatuan” ala *nature*. Hal ini yang menyebabkan tampilan baju kebaya tampak unik dan sangat menarik, sehingga meningkatkan omzet penjualan. Ibu Tuti merupakan orang yang tepat melakukan kegiatan manajemen di bidang

- a. Operasional/produksi
- b. Keuangan
- c. Personalia
- d. Pemasaran
- e. Perkantoran

- 22 *Total Quality Control (TQC)* merupakan hasil pemikiran Armand Feigenbaum yang dikemukakannya pada tahun 1965. Menurut pendapatnya, pengendalian dimulai dari perancangan produk dan berakhir jika produk telah sampai ke tangan pelanggan yang puas. Prinsip utamanya adalah *quality is every body's job*. Pengendalian mutu adalah salah satu bagian dari manajemen
- Produksi
 - perkantoran
 - sumber daya manusia
 - Pemasaran
 - Keuangan
- 23 The variable that must be taken into account to get the figure of Gross National Product from a figure of Gross Domestic Product, or the reverse, is
- economic growth
 - income per capita
 - net export revenue
 - foreign exchange rate
 - net foreign factor income
- 24 Dalam menghitung PDB atau PNB, data yang dijumlahkan dari sebuah produk (barang atau jasa) pada tahun tertentu adalah
- nilai jual produk tersebut
 - nilai bahan untuk membuat produk tersebut
 - nilai tambah dalam menghasilkan produk dimaksud
 - nilai tenaga kerja untuk menghasilkan produk dimaksud
 - keuntungan yang diperoleh dari menghasilkan produk tersebut
- 25 Government transfer payments are basically defined as
- those which require service on the part of the recipient
 - intergovernmental flows that do not affect individuals directly

- c. those for which the recipient gives no concurrent service in return
 - d. receipts which do not increase the total purchasing power of all recipients
 - e. that part of government expenditures on good and services not financed by taxes
- 26 Distribusi pendapatan pada masyarakat suatu negara dianggap baik (merata) bila
- a. kurva Lorenz mendekati garis diagonal
 - b. kurva Lorenz menjauhi garis diagonal
 - c. kurva Lorenz berbentuk horizontal
 - d. kurva Lorenz berbentuk vertical
 - e. pendapatan per kapita tinggi
- 27 Pertumbuhan ekonomi merupakan salah satu asumsi dalam penyusunan APBN. Jika dinyatakan asumsi pertumbuhan ekonomi tahun 2015 sebesar 5,2%, sedangkan tahun 2016 sebesar 5,1%, maka dapat dijelaskan bahwa
- a. GDP tahun 2015 lebih tinggi dari GDP tahun 2016
 - b. GDP tahun 2016 mengalami penurunan sebesar 0,1% dari tahun 2015
 - c. GDP paling tinggi terjadi pada tahun 2015 .
 - d. Kenaikan GDP tahun 2014 ke tahun 2015 lebih rendah dari kenaikan GDP tahun 2015 ke tahun 2016
 - e. Kenaikan GDP tahun 2014 ke tahun 2015 lebih tinggi dari kenaikan GDP tahun 2015 ke tahun 2016
- 28 Pada tahap pertumbuhan ekonomi menurut W.W Rostow, berikut digambarkan dengan ciri bahwa dalam masyarakat terjadi industrialisasi yang diikuti dengan peningkatan investasi dan tabungan. Tahap yang dimaksud adalah
- a. kapitalis madya masyarakat tradisional
 - b. lepas landas masa transisi
 - c. industri, dan persiapan lepas landas
 - d. ekonomi matang
 - e. konsumsi tingkat tinggi

- 29 What can increase the number of labour force?
- Population increase.
 - Changes in the number of population.
 - Changes in the age composition of the population.
 - The increase in the working age population.
 - The increase in the non-working age population.
- 30 In the short run a monopolist
- cannot incur any loss because the firm is the only seller
 - produces at minimum average cost to gain maximum profit
 - produces at maximum total revenue to earn maximum profit
 - produces at the level when marginal revenue equals marginal cost to keep minimum loss
 - produces at the level when marginal revenue exceeds marginal cost to get maximum profit.
- 31 Data indeks harga yang diterima petani dan indeks yang harus dibayar petani pada tahun 2016 di beberapa daerah sebagai berikut.

Daerah	Indeks yang diterima petani	Indeks yang dibayar petani
P	120	115
Q	115	120
R	105	107
S	130	124
T	110	101

Berdasarkan pernyataan di atas, analisis yang benar adalah

- petani daerah R paling kurang beruntung dibandingkan petani daerah lain

- b. petani daerah P memperoleh keuntungan yang sama dengan petani daerah Q
- c. petani daerah R kurang beruntung dibandingkan petani daerah Q
- d. petani daerah S memperoleh surplus lebih besar dibanding petani daerah T
- e. petani daerah T paling sejahtera dibandingkan petani daerah lain

32 The table of various and price of goods during three years:

No	Various goods	Goods price		
		2013	2014	2015
1	Rice	8.000	9.000	10000
2	Sugar	9.000	10.000	11.500
3	Palm oil	9.000	10.000	11.000

The degree of Inflation at year 2015 if it is counted by price consumers index (based on year 2014) is

- a. hyper inflation
 - b. heavy inflation
 - c. high inflation
 - d. moderate inflation
 - e. low inflation
- 33 Perhatikan kebijakan moneter berikut ini!
1. Untuk memacu pertumbuhan ekonomi, pada tahun 2017 pemerintah akan menurunkan tingkat suku bunga bank.
 2. Pada tahun 2016, pemerintah melelang Obligasi Ritel Indonesia (ORI) dan Surat Utang Negara (SUN).
 3. Melalui bank sentral, pemerintah menurunkan cadangan wajib minimum bagi setiap bank.
 4. Untuk meningkatkan kredit bagi masyarakat, pemerintah mempermudah prosedur

pengajuannya.

5. Agar jumlah uang yang beredar berkurang, pemerintah mempersulit prosedur permintaan kredit.

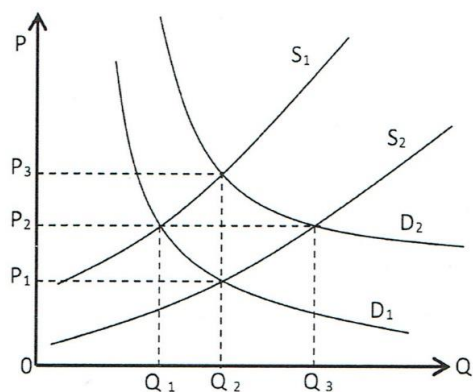
Dari pernyataan di atas, yang termasuk kebijakan moneter ekspansif adalah nomor

- a. (1), (2), dan (3)
 - b. (1), (3), dan (4)
 - c. (2), (3), dan (4)
 - d. (2), (3), dan (5)
 - e. (3), (4), dan (5)
- 34 Saat permintaan barang dan jasa terus bertambah, harga barang secara umum mengalami kenaikan secara terus menerus. Pemerintah kemudian mengambil kebijakan menaikkan pajak penghasilan. Dampak kebijakan tersebut adalah
- a. Pajak yang tinggi tidak akan mengubah permintaan masyarakat karena pendapatan juga tinggi sehingga harga barang-barang secara umum tetap tinggi.
 - b. Permintaan masyarakat terus bertambah walaupun harus membayar pajak yang tinggi sehingga harga barang-barang secara umum tetap tinggi.
 - c. Permintaan masyarakat tidak berkurang walaupun harus membayar pajak yang tinggi sehingga inflasi tetap terjadi, dengan demikian harga barang-barang secara umum tidak turun.
 - d. Jumlah uang yang beredar di masyarakat akan bertambah walaupun jumlah pajak meningkat sehingga permintaan bertambah dan harga barang umum tetap tinggi.
 - e. Jumlah uang beredar berkurang karena masyarakat harus membayar pajak yang lebih tinggi sehingga permintaan berkurang dan harga barang-barang secara umum turun.
- 35 Dalam kondisi di mana terjadi masalah inflasi yang ditandai oleh makin mahalnya harga barang dan jasa secara umum, pemerintah dapat mengambil kebijakan *thight money policy* untuk mengatasi inflasi tersebut. Kebijakan ini dilakukan dengan cara
- a. memperberat syarat-syarat pengajuan kredit ke bank
 - b. menaikkan suku bunga bank umum melalui peningkatan *BI rate*
 - c. menjual surat-surat berharga seperti ORI dan sukuk syariah

- d. mendorong para pengusaha untuk lebih banyak lagi menambah volume produksi.
 - e. menetapkan batas tertinggi harga barang-barang tertentu yang berlaku di pasar
- 36 The value of money based on the theory from Irving Fisher influenced by factor: amount of money, velocity of money, and trade of goods or services. The statement which is represents the Irving Fisher theory, EXCEPT....
- a. If M is stable, V and T is stable, then the value of money will be stable.
 - b. If M decreases, V and T is stable, then the value of money decreases.
 - c. If M increases, V and T is stable, then the value of money decreases.
 - d. If M decreases, M and T is stable, then the value of money decrease.
 - e. If M increases, M and T is stable, then the value of money increases.
- 37 Tujuan APBN adalah sebagai pedoman penerimaan dan pengeluaran negara dalam melaksanakan kegiatan kenegaraan untuk meningkatkan produksi dan kesempatan kerja, dalam rangka meningkatkan pertumbuhan ekonomi. Selain itu, penyusunan APBN juga memiliki tujuan sebagai berikut, KECUALI
- a. meningkatkan koordinasi antarkementerian dalam lingkungan pemerintah
 - b. membantu pemerintah mencapai tujuan kebijakan fiskal
 - c. membantu pemerintah mencapai tujuan kebijakan moneter
 - d. memungkinkan pemerintah memenuhi prioritas belanja
 - e. membantu menciptakan efisiensi dan keadilan dalam menyediakan barang dan jasa publik melalui proses pemrioritasan
- 38 Negara X pada tahun 2016 mengalami defisit anggaran. Langkah-langkah yang dilakukan pemerintah untuk mengatasi defisit tersebut melalui sisi penerimaan atau pengeluaran adalah sebagai berikut, KECUALI
- a. Menunda sebagian proyek pemerintah yang menyerap biaya besar namun penyelesaiannya memakan waktu lama.
 - b. Melakukan penghematan pada pos pengeluaran rutin pembangunan.
 - c. Mengurangi proyek-proyek yang tidak efektif dan efisien.
 - d. Mengurangi subsidi BBM dan non-BBM.

e. Meminjam dana dari masyarakat dengan menerbitkan obligasi pemerintah.

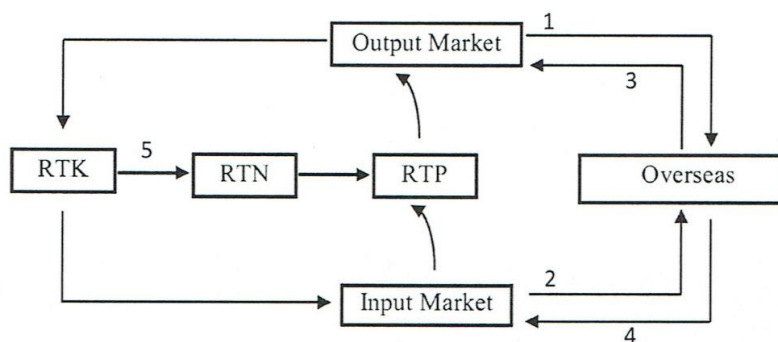
39 Pay attention to the chart below.



Based on the chart, at equilibrium price, the quantity of goods sold is OQ_1 . If the government add subsidy to the producer, the equilibrium price and quantity of goods are in

- a. P_1Q_1
- b. P_1Q_2
- c. P_2Q_1
- d. P_1Q_3
- e. P_3Q_2

40 This is the flow chart economic activity.



Based on the chart, flow number 4 shows

- a. producers import goods to overseas
- b. foreigners gain input from consumers
- c. government exports goods to overseas
- d. consumers get honor from their input
- e. consumers pay tax to government.

41 Perhatikan berbagai jenis akun di bawah ini :

- 1) gaji terutang
- 2) iklan dibayar di muka
- 3) perlengkapan
- 4) pendapatan yang masih harus diterima
- 5) pendapatan diterima di muka

Berdasarkan akun-akun di atas, yang termasuk akun aset adalah nomor

- a. (1), (2), dan (3)
- b. (1), (3), dan (5)
- c. (2), (3), dan (4)
- d. (2), (4), dan (5)
- e. (3) (4), dan (5)

42 Perhatikan pernyataan berikut.

- 1. Telah diselesaikan pekerjaan yang pembayarannya minggu depan sebesar Rp200.000,00
- 2. Telah dikirim faktur atas pekerjaan yang telah diselesaikan senilai Rp2.000.000,00.
- 3. Perusahaan menyelesaikan reparasi kendaraan pelanggan Rp1.200.000,00 akan dibayar bulan depan.
- 4. Dikeluarkan pembayaran utang sebesar Rp500.000,00.
- 5. Dibayar beban listrik sebesar Rp1.500.000,00.

Berdasarkan pernyataan di atas, yang menunjukkan bertambahnya piutang dan modal adalah nomor

- a. (1), (2), dan (3)
- b. (1), (3), dan (4)
- c. (2), (3), dan (5)
- d. (2), (4), dan (5)
- e. (3), (4), dan (5)

43 Anna, Accounting staff of service company journalize transactions as below:

1. Purchased office equipment = Cash (Dr) and Equipment (Cr)
2. Paid accrued wages expense = Cash (Dr) and Wages Payable (Cr)
3. Paid debt from last month transaction = Payable (Dr) and Cash (Cr)
4. Receipt payment from customer = Cash (Dr) and Receivables (Cr)
5. Earn service to be billed next month = Receivables (Dr) and Service Fees (Cr)

The correct journal entry are number

- a. (1), (2), dan (5)
- b. (1), (3), dan (4)
- c. (2), (3), dan (4)
- d. (2), (3), dan (5)
- e. (3), (4), dan (5)

44 Perusahaan Bahana Elektronik Servis telah menyelesaikan Pekerjaan servis TV milik Pak Deni dengan biaya servis Rp450.000,00. Dari jumlah tersebut baru diterima sebesar Rp300.000,00 dan sisanya akan diterima bulan depan. Kejadian transaksi di atas akan dicatat dalam jurnal umum oleh Bahana Elektronik Servis sebagai

a	Kas	Rp300.000,00	
	Utang usaha	Rp150.000,00	
	Pendapatan jasa servis		Rp450.000,00
b.	Kas	Rp300.000,00	
	Piutang usaha	Rp150.000,00	
	Pendapatan jasa servis		Rp450.000,00

c. Kas	Rp300.000,00	
Pendapatan jasa servis	Rp150.000,00	
Utang usaha		Rp450.000,00
d. Pendapatan jasa servis	Rp450.000,00	
Utang usaha		Rp150.000,00
Kas		Rp300.000,00
e. Pendapatan jasa servis	Rp450.000,00	
Utang usaha		Rp300.000,00
Kas		Rp150.000,00

45 Bagaimana pengaruhnya terhadap aset, liabilitas, dan ekuitas jika ada transaksi membeli perlengkapan Rp500.000,00 dengan Rp200.000,00 dibayar tunai dan sisanya kredit? Jawaban yang benar adalah

- Aset berupa kas berkurang Rp300.000,00, Aset berupa perlengkapan bertambah Rp200.000,00 dan Liabilitas bertambah Rp500.000,00
- Aset berupa kas berkurang Rp200.000,00, Aset berupa perlengkapan bertambah Rp500.000,00 dan Liabilitas bertambah Rp300.000,00
- Aset berupa kas berkurang Rp500.000,00, Aset berupa perlengkapan bertambah Rp200.000,00 dan Liabilitas bertambah Rp300.000,00
- Aset berupa kas berkurang Rp300.000,00, Aset berupa perlengkapan bertambah Rp500.000,00 dan Liabilitas bertambah Rp200.000,00
- Aset berupa kas berkurang Rp200.000,00, Aset berupa perlengkapan bertambah Rp300.000,00 dan Liabilitas bertambah Rp500.000,00

46 Dalam neraca saldo Kilau Servis per 31 Desember 2016 terdapat akun Iklan dibayar dimuka sebesar Rp2.300.000,00. Data penyesuaian per 31 Desember 2016 menyatakan bahwa iklan dibayar pada tanggal 3 Nopember 2016 di Kompas untuk 10 kali penerbitan, sampai akhir periode baru diterbitkan 4 kali. Berdasarkan data di atas, jurnal penyesuaiannya adalah

a.	Beban Iklan	Rp920.000,00	
	Iklan Dibayar di muka		Rp920.000,00
b.	Iklan Dibayar di muka	Rp1.380.000,00	
	Biaya Iklan		Rp1.380.000,00
c.	Beban Iklan	Rp1.320.000,00	
	Iklan Dibayar di muka		Rp1.380.000,00
d.	Iklan Dibayar di muka	Rp920.000,00	
	Biaya Iklan		Rp920.000,00
e.	Iklan Dibayar di muka	Rp2.300.000,00	
	Biaya Iklan		Rp2.300.000,00

- 47 Dalam daftar saldo Perusahaan Airin Travel per 31 Desember 2016, terdapat perkiraan Beban Perlengkapan Toko Rp1.300.000,00, sedangkan persediaan perlengkapan yang masih ada per 31 Desember 2016 ternyata tinggal Rp900.000,00.

Ayat jurnal penyesuaian yang benar adalah

a.	Perlengkapan Toko	Rp400.000,00	
	Beban Perlengkapan Toko		Rp400.000,00
b.	Perlengkapan Toko	Rp900.000,00	
	Beban Perlengkapan Toko		Rp900.000,00
c.	Beban Perlengkapan Toko	Rp400.000,00	
	Perlengkapan Toko		Rp400.000,00
d.	Beban Perlengkapan Toko	Rp900.000,00	
	Perlengkapan Toko		Rp900.000,00
e.	Perlengkapan Toko	Rp1.300.000,00	
	Beban Perlengkapan Toko		Rp1.300.000,00

- 48 The financial data of transportation company "Gagak Hitam" shows as follow :

- Equity (ending balance)	Rp 184.500.000,00
- Wages Expense	Rp15.000.000,00

- Rent Expense	Rp12.500.000,00
- Electricity Expense	Rp3.000.000,00
- Withdrawals	Rp3.500.000,00
- Service Fees	Rp45.500.000,00

Based on the information above, the beginning balance of equity "Gagak Hitam" is

- a. Rp154.500.000,00
- b. Rp173.000.000,00
- c. Rp181.000.000,00
- d. Rp188.000.000,00
- e. Rp191.500.000,00

49. The financial data of Nancy beauty shop at the ending period (December 31, 2016) as follow :

- Equity (Ending balance)	Rp80.000.000,00
- Net Income	Rp10.150.000,00
- Rent expense	Rp2.000.000,00
- Electricity Expense	Rp300.000,00
- Telephone expense	Rp700.000,00
- Supplies expense	Rp500.000,00
- Equity (Beginning Balance)	Rp70.850.000,00

Based on the data above, Nancy's withdrawal for the period is

- a. Rp1.000.000,00
- b. Rp9.150.000,00
- c. Rp10.150.000,00
- d. Rp12.650.000,00
- e. Rp14.650.000,00

50 The net income reported on the income statement is Rp58.000.000,00. However, adjusting entries have not been made at the end of the period for supplies expense of Rp2.200.000,00

and accrued salaries of Rp1.300.000,00. Net income, as corrected, is

- a. Rp58.000.000,00
- b. Rp56.700.000,00
- c. Rp55.800.000,00
- d. Rp54.500.000,00
- e. Rp52.500.000,00